

Clear

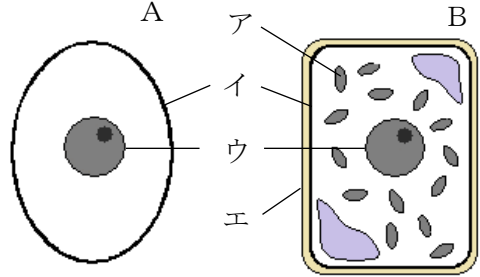
クリア問題 11 (月 日)

名 前	
-----	--

1 右図A, Bは、動物, 植物の細胞を模式的に示したものである。次の問いに答えなさい。

(1) 右図のア~エの名称を書きなさい。

解答			
ア	イ	ウ	エ



(2) 動物の細胞はA, Bどちらか, 記号で答えなさい。

解答

2 血液の循環について, 次の問いに答えなさい。

(1) 心臓から送り出される血液が流れる血管を何というか, 答えなさい。

解答

(2) 心臓へもどってくる血液が流れる血管を何というか, 答えなさい。

解答

(3) 酸素を多くふくむ血液を何というか, 答えなさい。

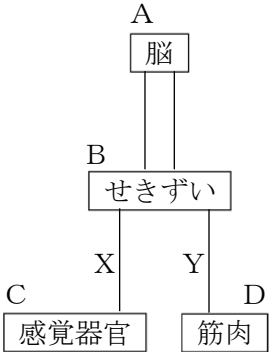
解答

3 右図は、ヒトの神経系の模式図である。次の問いに答えなさい。

(1) 図のX, Yは神経を表している。

X, Yの神経をそれぞれ何というか, 答えなさい。

解答	
X	Y



(2) 刺激を受けて意識とは無関係に決まった反応が起こることを何というか, 答えなさい。

解答

(3) (2)は図のどのような経路を通るか, 適切なものを次のア~エより1つ選び, 記号を答えなさい。

- ア C→X→B→A→B→Y→D
- イ D→Y→B→X→C
- ウ C→X→B→Y→D
- エ D→Y→B→A→B→X→C

解答

Clear

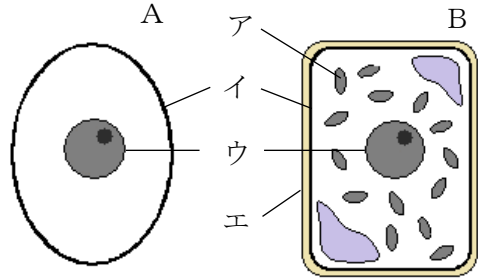
クリア問題 11 (月 日)

名 前	解 答
-----	-----

1 右図A, Bは、動物、植物の細胞を模式的に示したものである。次の問いに答えなさい。

(1) 右図のア～エの名称を書きなさい。

ア 葉緑体 イ 細胞膜 ウ 核 エ 細胞壁



(2) 動物の細胞はA, Bどちらか、記号で答えなさい。

A

2 血液の循環について、次の問いに答えなさい。

(1) 心臓から送り出される血液が流れる血管を何というか、答えなさい。

動脈

(2) 心臓へもどってくる血液が流れる血管を何というか、答えなさい。

静脈

(3) 酸素を多くふくむ血液を何というか、答えなさい。

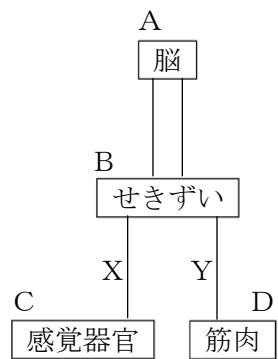
動脈血

3 右図は、ヒトの神経系の模式図である。次の問いに答えなさい。

(1) 図のX, Yは神経を表している。

X, Yの神経をそれぞれ何というか、答えなさい。

X 感覚神経 Y 運動神経



(2) 刺激を受けて意識とは無関係に決まった反応が起こることを何というか、答えなさい。

反射

(3) (2)は図のどのような経路を通るか、適切なものを次のア～エより1つ選び、記号を答えなさい。

ア C→X→B→A→B→Y→D イ D→Y→B→X→C
ウ C→X→B→Y→D エ D→Y→B→A→B→X→C

ウ

1 正答率

全て自作問題であるため、正答率のデータはない。

2 解答

番号		解 答		採点の仕方
1	(1)	ア	葉緑体 ※ひらがなでもよい。	
		イ	細胞膜 ※ひらがなでもよい。	
		ウ	核 ※ひらがなでもよい。	
		エ	細胞壁 ※ひらがなでもよい。	
	(2)	A		
2	(1)	動脈 ※ひらがなでもよい。		
	(2)	静脈 ※ひらがなでもよい。		
	(3)	動脈血 ※ひらがなでもよい。		
3	(1)	X	感覚神経 ※ひらがなでもよい。	
		Y	運動神経 ※ひらがなでもよい。	
	(2)	反射 ※ひらがなでもよい。		
	(3)	ウ		