

レビュー問題

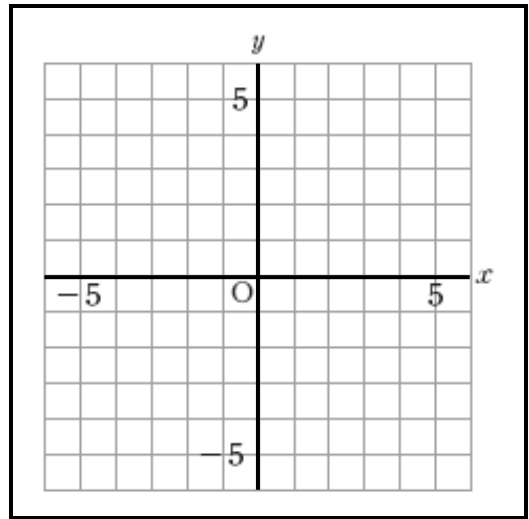
中学校1年 数学

(月 日)

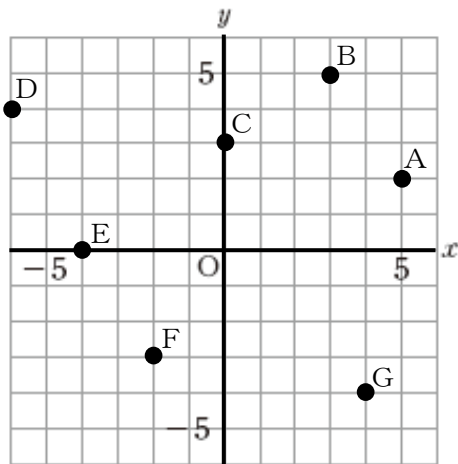
【④ - 2 - 2 座標】

氏名	
----	--

- 1 点A (2, 3), B (-1, 4) を、
右の図の中に・印で示しなさい。



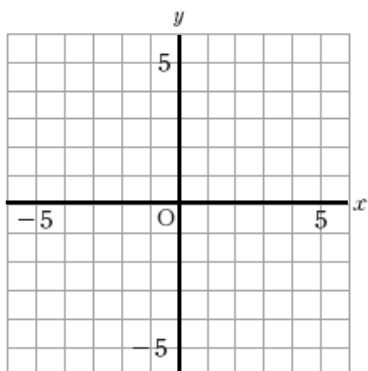
- 2 下の図で、点AからGの座標を書きなさい。



A	(,)
B	(,)
C	(,)
D	(,)
E	(,)
F	(,)
G	(,)

- 3 下の文の①から④に、適切な言葉を入れなさい。

下の図で、横の数直線を ① , 縦の数直線を ② , 両方をあわせて ③ といいます。 ③ が交わる点Oを ④ といいます。



①	
②	
③	
④	

レビュー問題

中学校1年 数学

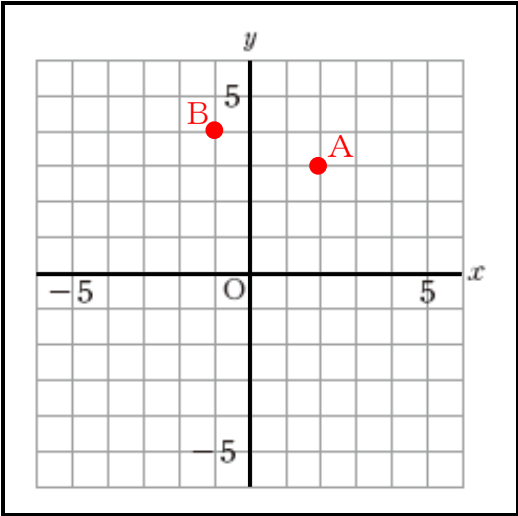
(月 日)

【④ - 2 - 2 座標】

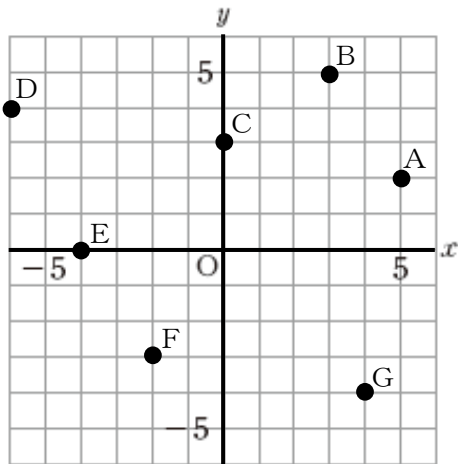
氏 名	解 答
-----	-----

- 1 点A (2, 3), B (-1, 4) を、
右の図の中に・印で示しなさい。

(x座標, y座標)



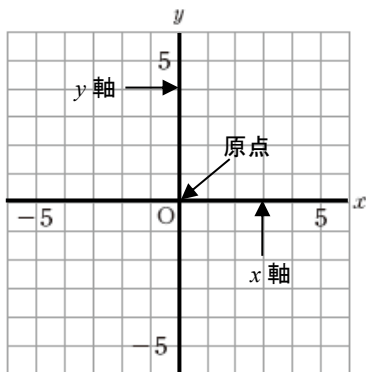
- 2 下の図で、点AからGの座標を書きなさい。



A	(5, 2)
B	(3, 5)
C	(0, 3)
D	(-6, 4)
E	(-4, 0)
F	(-2, -3)
G	(4, -4)

- 3 下の文の①から④に、適切な言葉を入れなさい。

下の図で、横の数直線を ① , 縦の数直線を ② , 両方をあわせて ③ といいます。 ③ が交わる点 O を ④ といいます。



①	x軸
②	y軸
③	座標軸
④	原点