

レビュー問題

小学校2年 算数
【⑦-4 文と図と式】

(月 日)

名前

- ① あめが 20こ あります。
8こ 食べると、 のこりは 何こに なりますか。
□ に あてはまる ^{かず} 数をかきましょう。

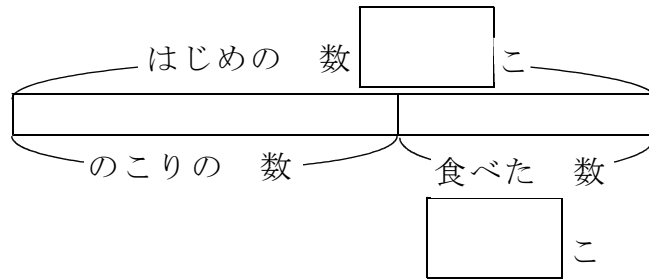
【とき方】

図をかくと、右のようになりす。

のこりの 数は、

$$20 - 8 = \square$$

答え □ こ

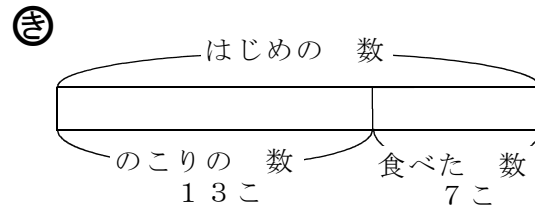
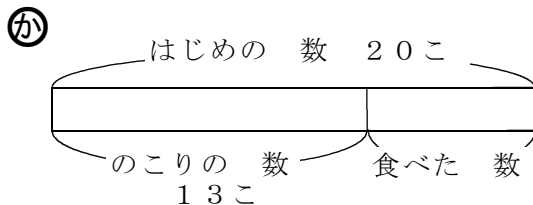


- ② つぎの 文を つかって、 もんだい文と 図と しきを つくりました。
もんだい文と あう 図や しきを ^{せん} 線で むすびましょう。

あめが 20こ あります。
7こ 食べると、 のこりは 13こに なります。

㊦ あめが あります。
7こ 食べたら 13こ
のこりました。
あめは 何こ ありましたか。

㊧ あめが 20こ あります。
何こか 食べたら、 13こ
のこりました。
何こ 食べましたか。



㊨ $13 + 7 = 20$ 答え 20こ

㊩ $20 - 13 = 7$ 答え 7こ

レビュー問題

小学校2年 算数
【⑦-4 文と図と式】

(月 日)

名 前

解 答

- ① あめが 20こ あります。
8こ 食べると、 のこりは 何こに なりますか。
□ に あてはまる ^{かず} 数をかきましょう。

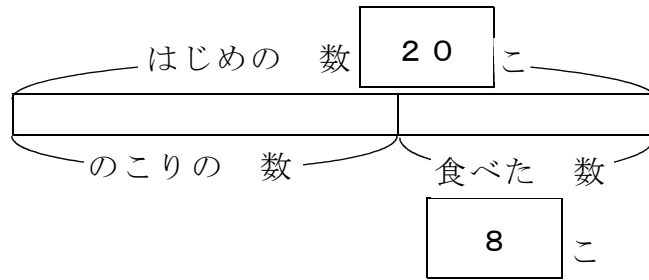
【とき方】

図をかくと、右のようになりす。

のこりの 数は、

$$20 - 8 = \boxed{12}$$

答え $\boxed{12}$ こ

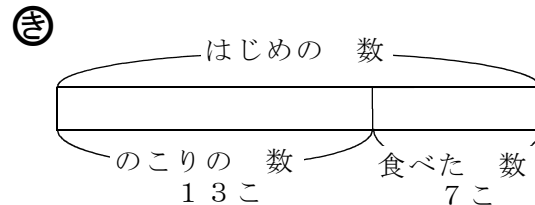
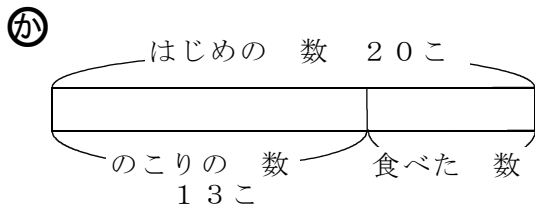


- ② つぎの 文を つかって、 もんだい文と 図と しきを つくりました。
もんだい文と あう 図や しきを ^{せん} 線で むすびましょう。

あめが 20こ あります。
7こ 食べると、 のこりは 13こに なります。

㊦ あめが あります。
7こ 食べたら 13こ
のこりました。
あめは 何こ ありましたか。

㊧ あめが 20こ あります。
何こか 食べたら、 13こ
のこりました。
何こ 食べましたか。



㊨ $13 + 7 = 20$ 答え 20こ

㊩ $20 - 13 = 7$ 答え 7こ