

レビュー問題

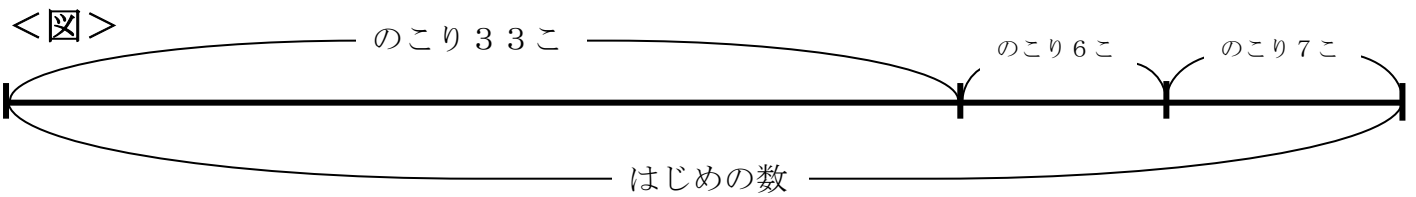
小学校3年 算数

(月 日)

【③-2 かくれた数はいくつ(1)】

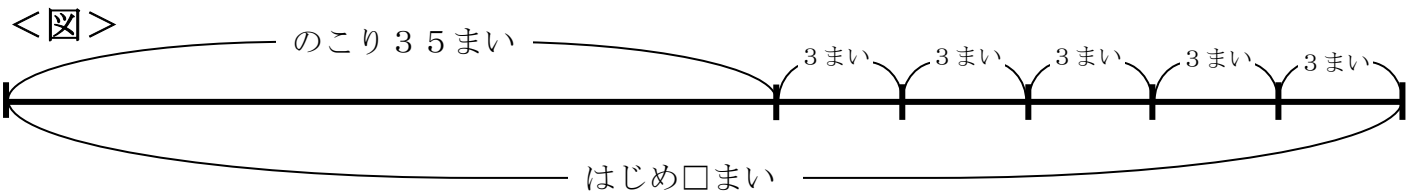
氏 名	
-----	--

① スーパーでドーナツを売っています。はじめのお客さんが6こ買っていきました。次のお客さんは、7こ買っていきました。のこりは33こでした。はじめ、ドーナツはいくつ売っていたでしょう。図を見て答えましょう。



①	(式)	(答え)
---	-----	------

② 先生からおり紙をもらいました。3まいずつ5人の子どもたちで分けたら、のこりは35まいでした。



- (1) 子どもたちで分けたのは、全部で何まいでしょう。
- (2) はじめ、おり紙は何まいあったでしょう。

②	(1)	(式)	(答え)
	(2)	(式)	(答え)

レビュー問題

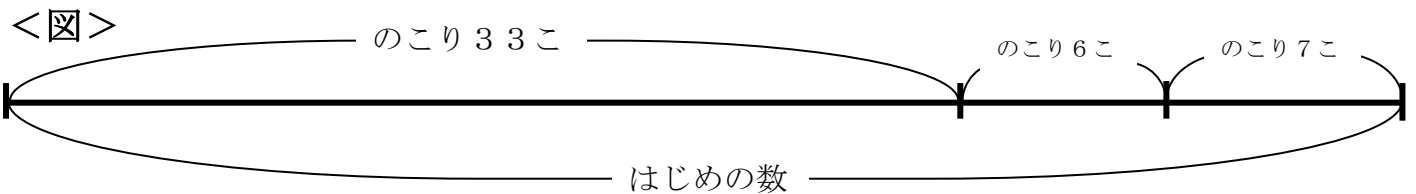
小学校3年 算数

(月 日)

【③-2 かくれた数はいくつ(1)】

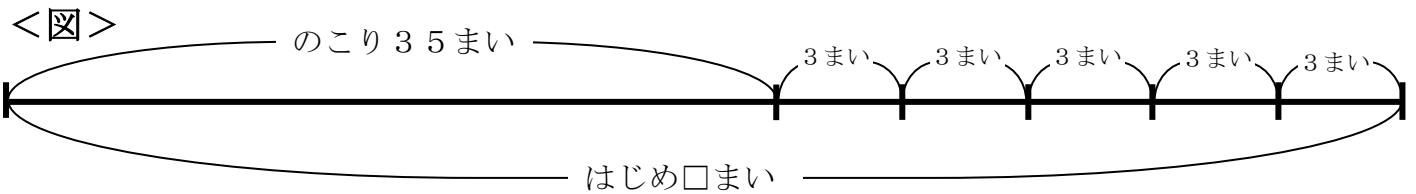
氏 名	解 答
-----	-----

① スーパーでドーナツを売っています。はじめのお客さんが6こ買っていきました。次のお客さんは、7こ買っていきました。のこりは33こでした。はじめ、ドーナツはいくつ売っていたでしょう。図を見て答えましょう。



①	(式) $6 + 7 + 33$	(答え) 46こ
---	---------------------	-------------

② 先生からおり紙をもらいました。3まいずつ5人の子どもたちで分けたら、のこりは35まいでした。



- (1) 子どもたちで分けたのは、全部で何まいでしょう。
- (2) はじめ、おり紙は何まいあったでしょう。

②	(1)	(式) $3 \times 5 = 15$	(答え) 15まい
	(2)	(式) $35 + 15 = 50$	(答え) 50まい