

レビュー問題

小学校3年 算数

(月 日)

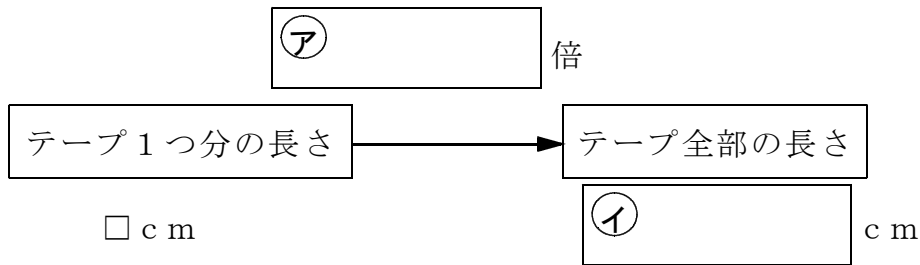
【⑧-3 かくれた数はいくつ (2)】

名 前

① テープを同じ長さに切っていきます。

5回切りとったら、45 cmのテープがなくなりました。

① にあてはまる数をかいて、 をかんせいさせましょう。



② テープ1つ分の長さは何 cmですか。

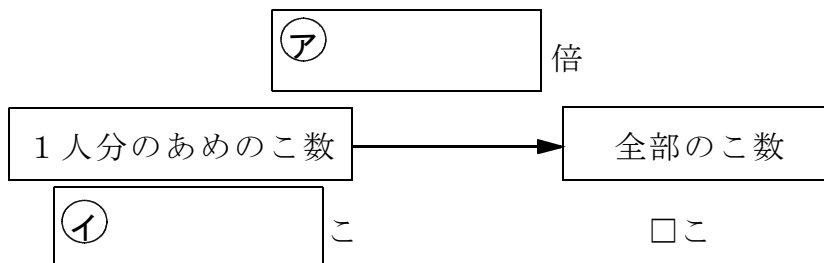
式

答え cm

② ふくろにあめがはいっています。

このあめを、6人に同じ数ずつ分けたら、1人4こになりました。

① にあてはまる数をかいて、 をかんせいさせましょう。



② ふくろにあめは何こありましたか。

式

答え こ

レビュー問題

小学校3年 算数 (月 日)

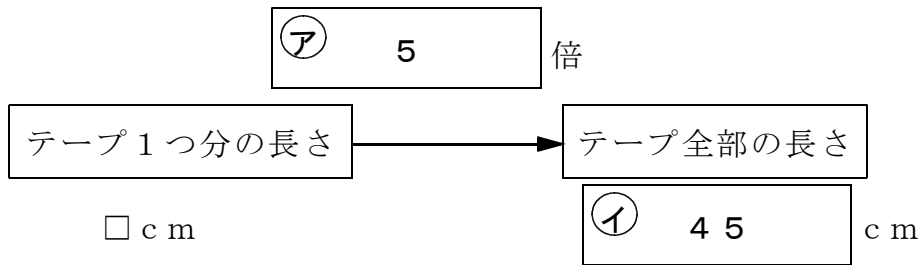
【⑧-3 かくれた数はいくつ (2)】

名 前

解 答

- ① テープを同じ長さに切っていきます。
5回切りとったら、45cmのテープがなくなりました。

- ① にあてはまる数をかいて、 をかんせいさせましょう。



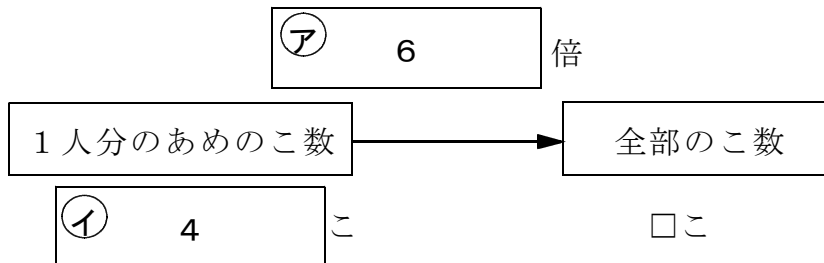
- ② テープ1つ分の長さは何cmですか。

式

答え cm

- ② ふくろにあめがはいっています。
このあめを、6人に同じ数ずつ分けたら、1人4こになりました。

- ① にあてはまる数をかいて、 をかんせいさせましょう。



- ② ふくろにあめは何こありましたか。

式

答え こ