

レビュー問題

小学校5年 算数

(月 日)

【13 - 3 割合のグラフ】

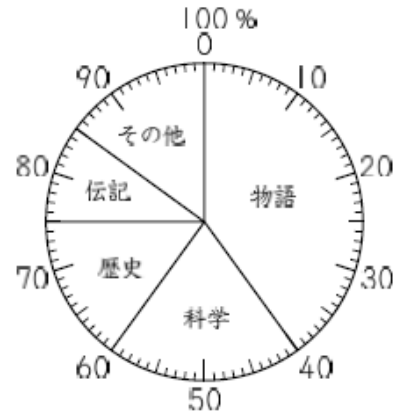
氏名	
----	--

1 あきらさんの学校で、3月に貸し出された本を調べました。下の円グラフは、貸し出された本のさつ数の種類別の割合を表したものです。

(1) 「科学」の本のさつ数の割合は、全体の何%ですか。

3月に貸し出された本のさつ数の種類別の割合

	%
--	---



(2) 3月貸し出された本のさつ数は620さつで、そのうち、「物語」の本のさつ数の割合は、全体の40%です。「物語」の本のさつ数は何さつですか。求める式と答えを書きましょう。

式	答え
	さつ

2 右の円グラフは、学級全体の人数をもとにして、家で犬を飼っている人の割合を表したものです。

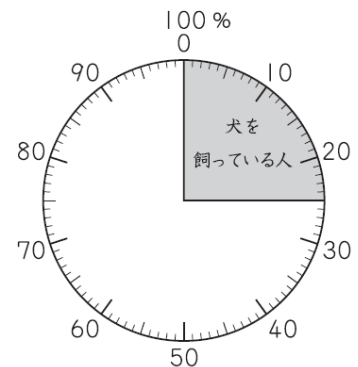
犬を飼っている人は8人です。

この8人は、学級全体の人数の25%にあたります。

学級全体の人数は何人ですか。求める式と答えを書きましょう。

式	答え
	人

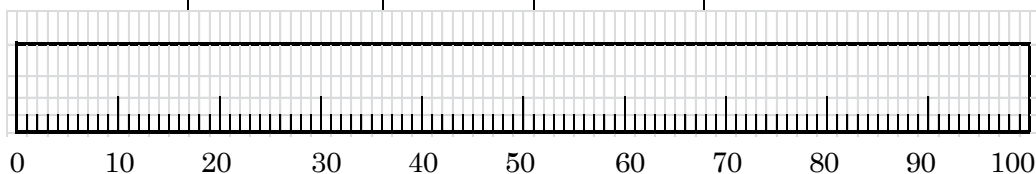
家で犬を飼っている人の割合



3 次の表はある学校の5年生が食べた朝食について、調べた結果を表したものです。それぞれの () にあてはまる数を書きましょう。また、これを下の帯グラフにかきましょう。

食べた朝食	人数 (人)	百分率 (%)
ごはん	24	48
パン	17	(ア)
シリアル	4	8
うどん	3	6
その他	2	4
合計	50	(イ)

ア	
イ	



レビュー問題

小学校5年 算数

(月 日)

【13 - 3 割合のグラフ】

氏名	解答
----	----

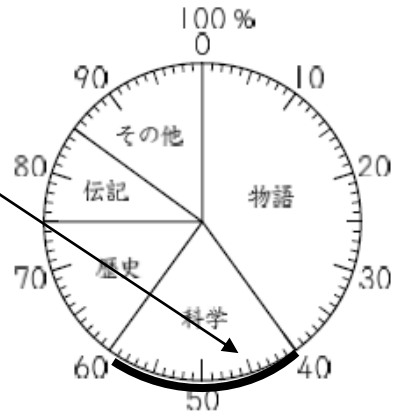
1 あきらさんの学校で、3月に貸し出された本を調べました。下の円グラフは、貸し出された本のさつ数の種類別の割合を表したものです。

(1) 「科学」の本のさつ数の割合は、全体の何%ですか。

3月に貸し出された本のさつ数の種類別の割合

20 %

ここに注目すればいいですね。



(2) 3月貸し出された本のさつ数は620さつで、そのうち、「物語」の本のさつ数の割合は、全体の40%です。「物語」の本のさつ数は何さつですか。求める式と答えを書きましょう。

全体の40%は、全体の0.4倍ということですね。

式	答え
(例) 620×0.4	248 さつ

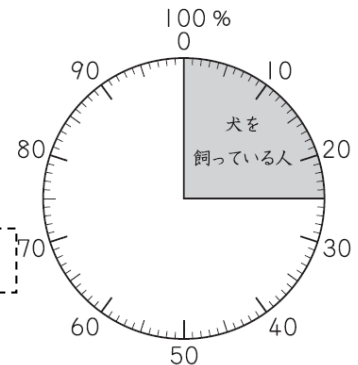
2 右の円グラフは、学級全体の人数をもとにして、家で犬を飼っている人の割合を表したものです。

犬を飼っている人は8人です。

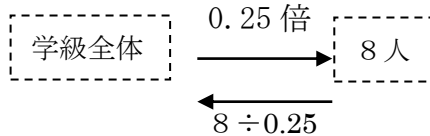
この8人は、学級全体の人数の25%にあたります。

学級全体の人数は何人ですか。求める式と答えを書きましょう。

家で犬を飼っている人の割合



式	答え
(例) $8 \div 0.25$	32 人



3 次の表はある学校の5年生が食べた朝食について、調べた結果を表したものです。それぞれの () にあてはまる数を書きましょう。また、これを下の帯グラフにかきましょう。

食べた朝食	人数 (人)	百分率 (%)
ごはん	24	48
パン	17	(ア)
シリアル	4	8
うどん	3	6
その他	2	4
合計	50	(イ)

ア	34
イ	100

