

# レビュー問題

中学校1年 数学

( 月 日)

## 【① - 1 - 1 0より小さい数】

氏名

1 下のアからオの中から、いちばん小さい数を1つ選び、その記号を書きなさい。

ア  $\frac{1}{3}$

イ 0

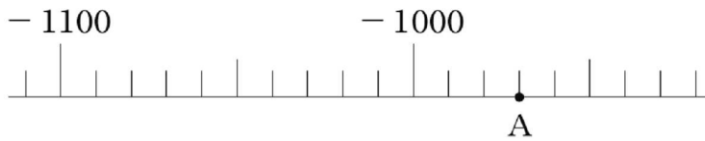
ウ -2

エ 4

オ  $-\frac{1}{2}$

2 -10より大きい負の整数を1つ書きなさい。

3 下の図は数直線の一部です。点Aが表す数を答えなさい。



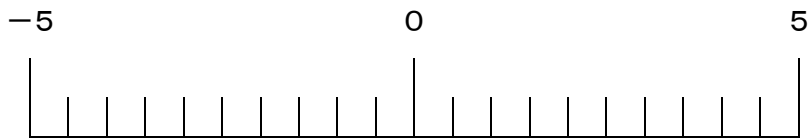
4 次の数を下の数直線上に表しなさい。

+3.5

-3.5

$+\frac{1}{2}$

$-\frac{5}{2}$



5 身の回りで0より小さい数が使われている例を1つ書きなさい。

# レビュー問題

中学校1年 数学

( 月 日)

## 【① - 1 - 1 0より小さい数】

氏名	解答
----	----

1 下のアからオの中から、いちばん小さい数を1つ選び、その記号を書きなさい。

ア  $\frac{1}{3}$     イ 0    ウ -2    エ 4    オ  $-\frac{1}{2}$

・負の数 < 0 < 正の数  
・数直線で表してみると、わかりやすいです。

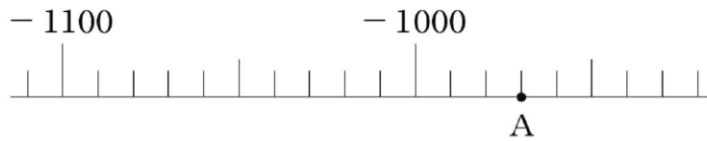
ウ

2 -10より大きい負の整数を1つ書きなさい。

数直線は、負の数の範囲でも、右にある方が大きい数になります。

(例) -9など

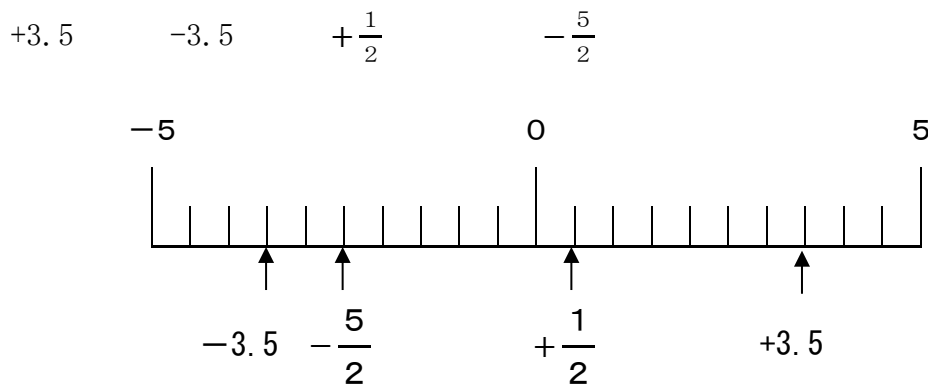
3 下の図は数直線の一部です。点Aが表す数を答えなさい。



-970

一目盛りがいくつ分かを、-1100と-1000から読み取りましょう。  
一目盛りは10になりますね。

4 次の数を下の数直線上に表しなさい。



5 身の回りで0より小さい数が使われている例を1つ書きなさい。

(例) 気温  
ゴルフのスコアなど