

レビュー問題

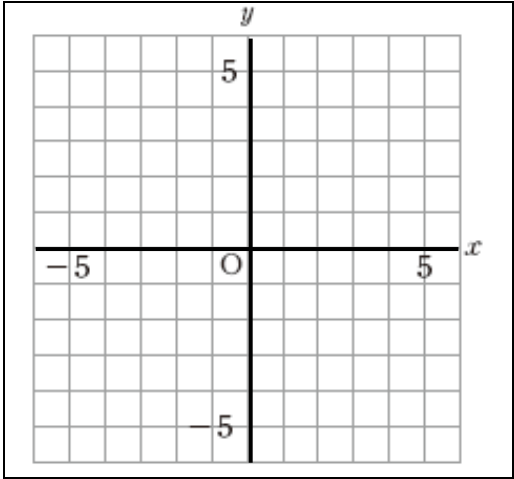
中学校1年 数学

(月 日)

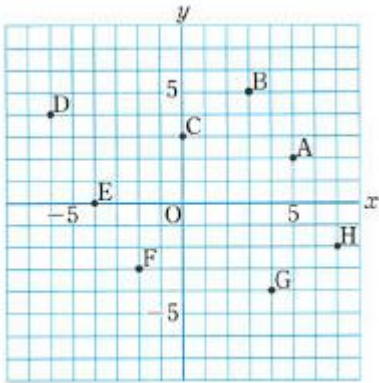
【④ - 2-2 座標】

氏名	
----	--

- 1 点 (2, 3)、(-1, 4) を、右の図の中に
・印で示しなさい。



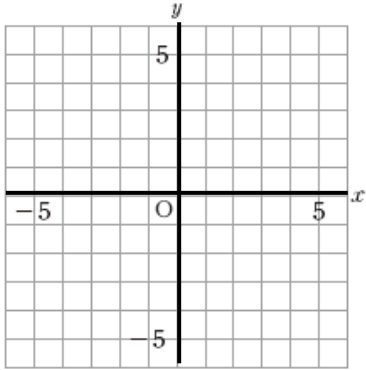
- 2 下の図で、点AからGの座標を書きなさい。



A	
B	
C	
D	
E	
F	
G	

- 3 下の文の①から③に、適切な言葉を入れなさい。

右の図で、横の数直線を 、縦の数直線を 両方をあわせて といいます



①	
②	
③	

レビュー問題

中学校1年 数学

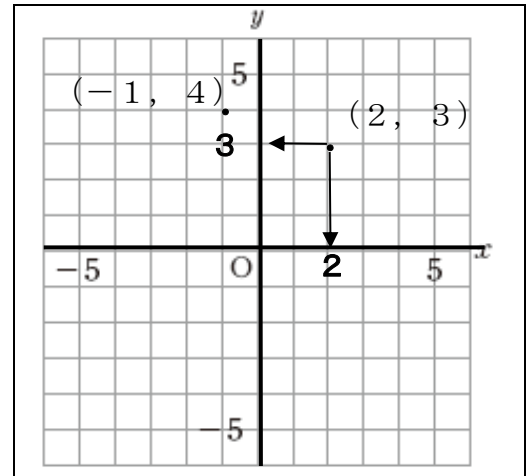
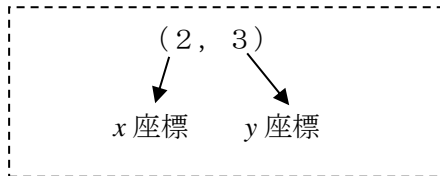
(月 日)

【④ - 2-2 座標】

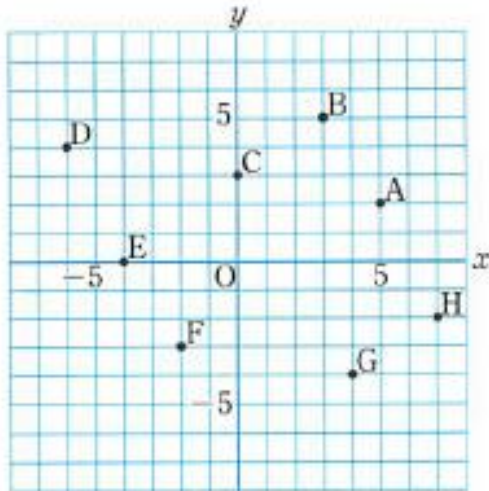
氏名

解答

- 1 点 $(2, 3)$ 、 $(-1, 4)$ を、右の図の中に
・印で示しなさい。



- 2 下の図で、点AからGの座標を書きなさい。



A	$(5, 2)$
B	$(3, 5)$
C	$(0, 3)$
D	$(-6, 4)$
E	$(-4, 0)$
F	$(-2, -3)$
G	$(4, -4)$

- 3 下の文の①から③に、適切な言葉を入れなさい。

右の図で、横の数直線を①、縦の数直線を② 両方をあわせて③といいます

①	x 軸
②	y 軸
③	座標軸

