

レビュー問題

中学校1年 数学

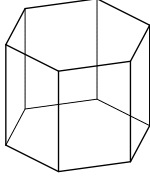
(月 日)

【⑥-1-1 いろいろな立体】

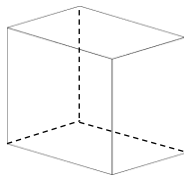
氏名	
----	--

1 下のア～オの見取り図について、次の各問いに答えなさい。

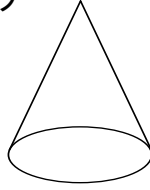
ア



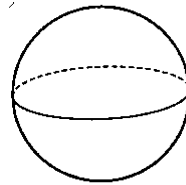
イ



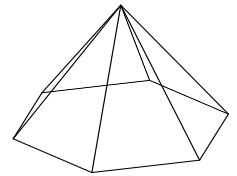
ウ



エ



オ



(1) ア、イのような立体を何とといいますか。


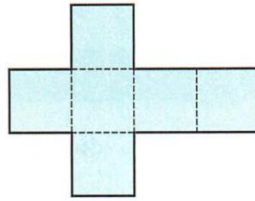
(2) ウ、オのような立体を何とといいますか。

(3) エのような立体を何とといいますか。

(1)	
(2)	
(3)	

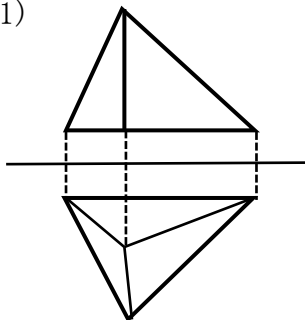
2 右の図は、正六面体の展開図です。

この展開図以外の正六面体の展開図を2つかきなさい。

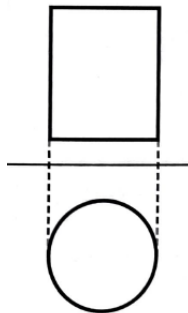


3 次の投影図で表される立体を何とといいますか。

(1)



(2)



(1)	
(2)	

レビュー問題

中学校1年 数学

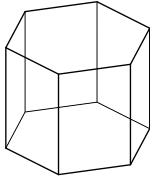
(月 日)

【⑥-1-1 いろいろな立体】

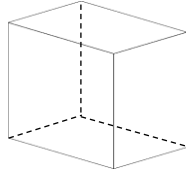
氏名	解答
----	----

1 下のア～オの見取り図について、次の各問いに答えなさい。

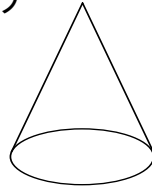
ア



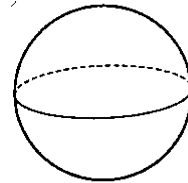
イ



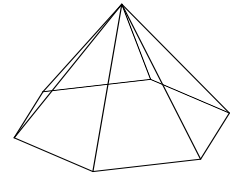
ウ



エ



オ



(1) ア、イのような立体を何とといいますか。

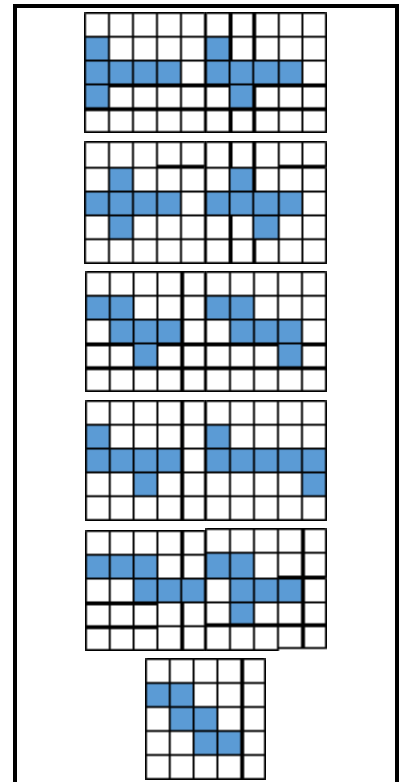
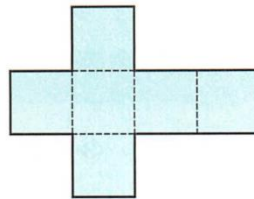
(2) ウ、オのような立体を何とといいますか。

(3) エのような立体を何とといいますか。

(1)	角柱
(2)	角錐
(3)	球

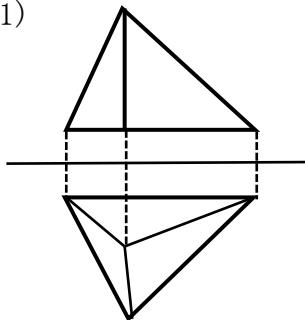
2 右の図は、正六面体の展開図です。

この展開図以外の正六面体の展開図を2つかきなさい。

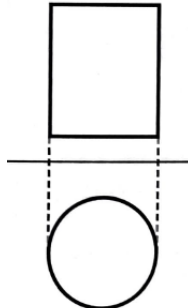


3 次の投影図で表される立体を何とといいますか。

(1)



(2)



(1)	三角錐（四面体）
(2)	円柱