

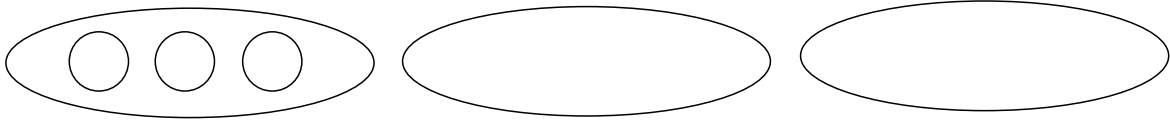
# レビュー問題

小学校1年 算数 ( 月 日)  
【20 おなじかずずつ】

名まえ

1 3人の子どもにあめを3こずつあげます。

みんなでなんこいりますか。  に  をかいて かんがえましょう。



3

+

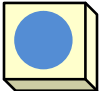
+

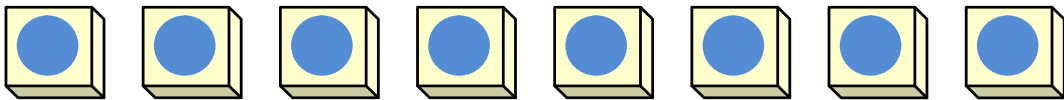
こたえ

こ

2 あめが8こあります。

1人に2こずつあげると、なん人にあげられますか。

①  を2こずつ せんで かこんで かんがえましょう。



人

② しきに かいて たしかめましょう。

しき

= 8

3 あめ12こをおなじかずずつ わけます。

① 3人では 1人 なんこですか。

こ

② 6人では 1人 なんこですか。

こ

# レビュー問題

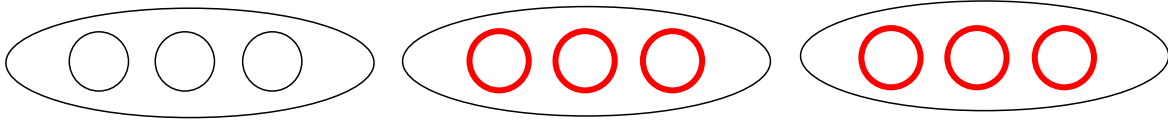
小学校1年 算数 ( 月 日)  
【20 おなじかずずつ】

名まえ

かいとう

1 3人の子どもに あめを 3こずつ あげます。

みんなで なんこ いらいますか。  に  をかいて かんがえましょう。



3

+

3

+

3

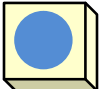
こたえ

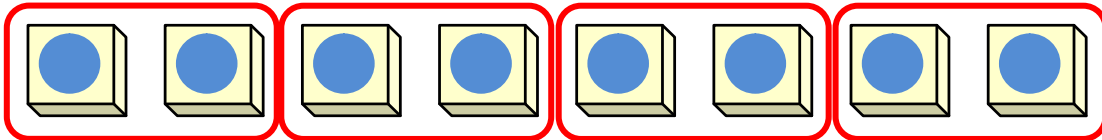
9

こ

2 あめが 8こ あります。

1人に 2こずつ あげると、なん人に あげられますか。

①  を 2こずつ せんで かこんで かんがえましょう。



4

人

② しきに かいて たしかめましょう。

しき

$2 + 2 + 2 + 2$

$= 8$

3 あめ 12こを おなじかずずつ わけます。

① 3人では 1人 なんこですか。

4

こ

② 6人では 1人 なんこですか。

2

こ