

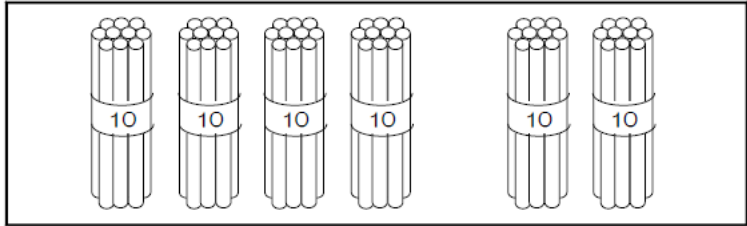
レビュー問題

小学校1年 算数

【② 100までの かずの けいさん】

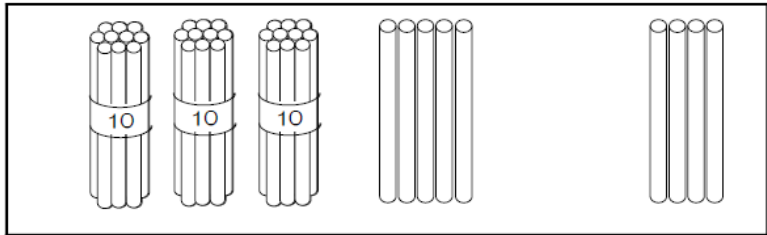
名まえ

① おはじきを 40こ もって います。
20こ もらいました。
おはじきは ぜんぶで なんこに なりましたか。



しき $40 + 20 =$ ことえ こ

② おはじきを 39こ もっています。
4こ あげると なんこ のこりますか。



しき $39 - 4 =$ ことえ こ

③ つぎの けいさんを しましょう。

(1) $30 + 50 =$

(2) $60 - 20 =$

(3) $20 + 7 =$

(4) $44 + 3 =$

(5) $61 + 8 =$

(6) $57 - 7 =$

(7) $46 - 5 =$

(8) $95 - 4 =$

レビュー問題

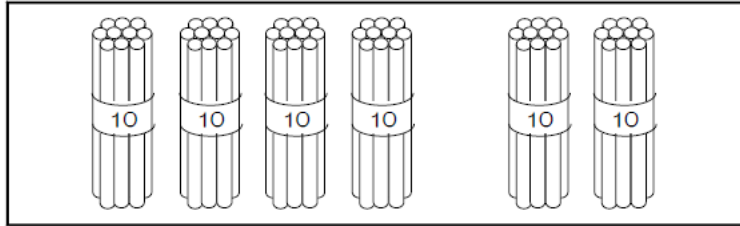
小学校1年 算数

【②】100までのかずのけいさん

名まえ

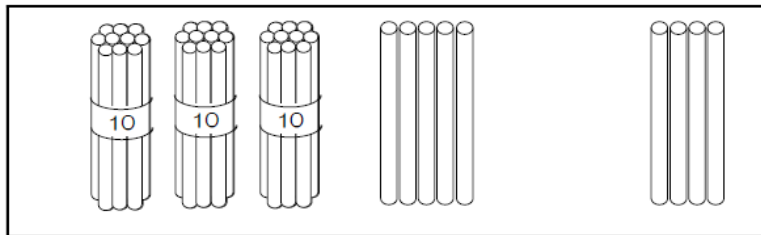
かいとう

- ① おはじきを 40こ もって います。
20こ もらいました。
おはじきは ぜんぶで なんこに なりましたか。



しき $40 + 20 =$ **60** ことえ **60** こ

- ② おはじきを 39こ もっています。
4こ あげると なんこ のこりますか。



しき $39 - 4 =$ **35** ことえ **35** こ

- ③ つぎの けいさんを しましょう。

(1) $30 + 50 =$ **80**

(2) $60 - 20 =$ **40**

(3) $20 + 7 =$ **27**

(4) $44 + 3 =$ **47**

(5) $61 + 8 =$ **69**

(6) $57 - 7 =$ **50**

(7) $46 - 5 =$ **41**

(8) $95 - 4 =$ **91**