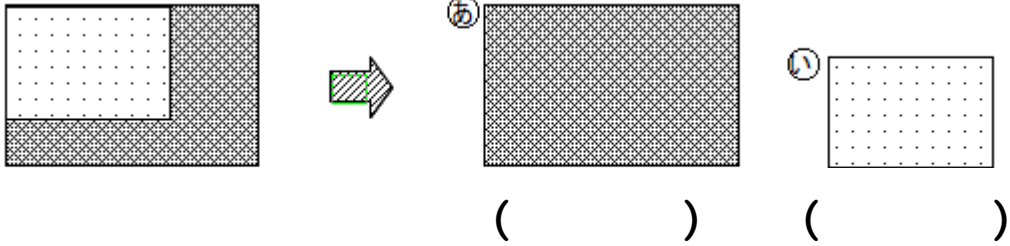


レビュー問題

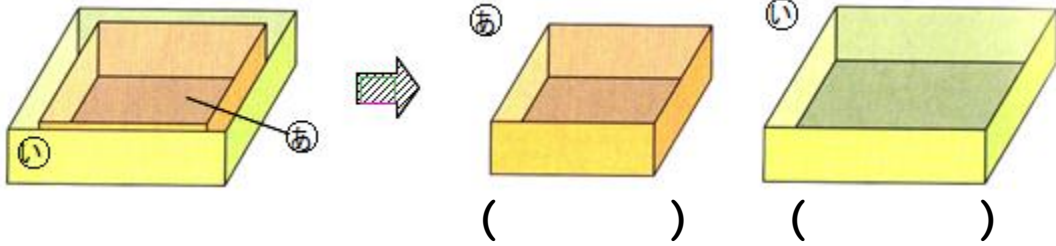
小学校1年 算数
【23】大きさをくらべ(2)

名まえ

1 ひろい ほうに ○をつけましょう。




2 おおきい ほうに ○を つけましょう。



3 みさきさんと たくみさんは じゃんけんで かったら、
□を1つぬる じゃんけんゲームを しました。どちらが
ひろく なったか かきましよう。

みさきさん



たくみさん



みさきさんは □が () こ

たくみさんは □が () こ

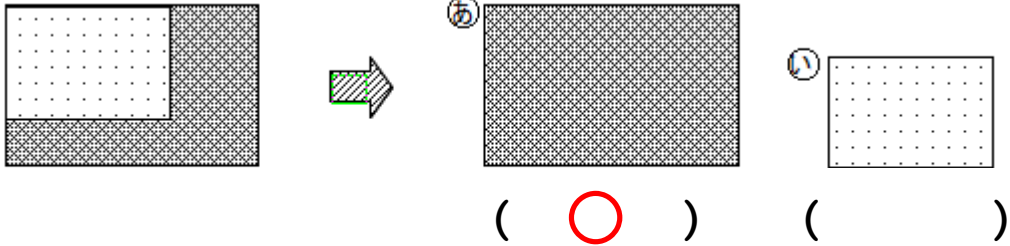
だから () さん のほうが ひろい。

レビュー問題

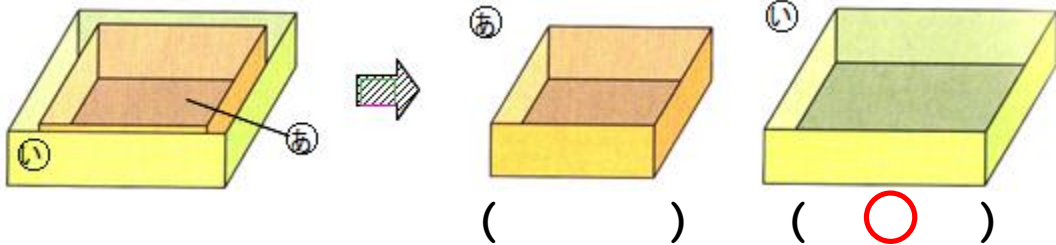
小学校1年 算数
【23】大きさをくらべ(2)

名まえ	かいとう
-----	------

1 ひろい ほうに ○をつけましょう。




2 おおきい ほうに ○をつけましょう。



3 みさきさんとたくみさんはじゃんけんでかったら、□を1つぬるじゃんけんゲームをしました。どちらがひろく なったか かきましよう。

みさきさん



たくみさん



みさきさんは □が (1 1) こ

たくみさんは □が (1 4) こ

だから (**たくみ**) さん のほうが ひろい。