

レビュー問題

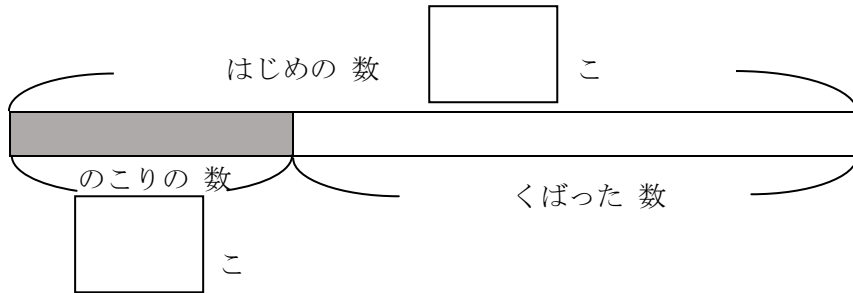
小学校2年 算数

(月 日)

【④ - 3 かくれた数はいくつ】

名まえ


- 1 ケーキが 23 こ ありました。子どもたちに くばったら 8 こ のこりしました。何こ くばりましたか。図の□にあてはまる数をかいて考えましょう。



(しき)

こたえ

- 2 こうえんで 子どもが 7人 あそんでいます。そこへ 友だちが 来たので みんなで 25 人 になりました。何人 来ましたか。図の□にあてはまる数をかいて考えましょう。



(しき)

こたえ

- 3 子どもが あそんで いました。その うち 15人が 帰ったので、18人 になりました。はじめは 何人 いましたか。図にかいて考えましょう。

(図)

(しき)

こたえ

レビュー問題

小学校2年 算数

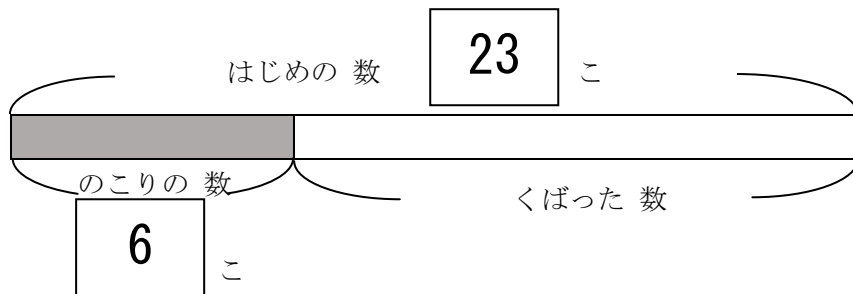
(月 日)

【④ - 3 かくれた数はいくつ】

名まえ

解 答

- 1 ケーキが 23 こ ありました。子どもたちに くばったら 6 こ のこりました。何こ くばりましたか。図の□にあてはまる数をかいて考えましょう。



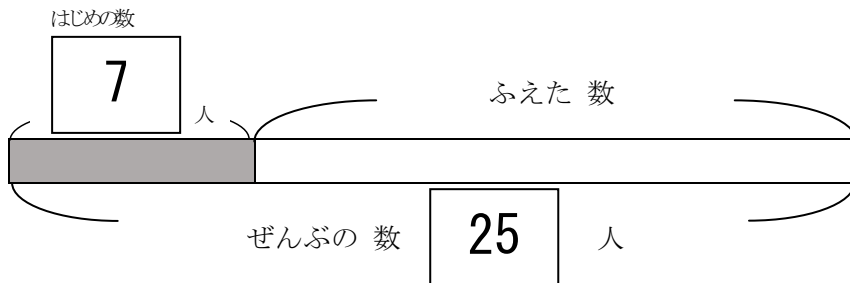
(しき)

$$23 - 6 = 17$$

こたえ

17 こ

- 2 こうえんで 子どもが 7人 あそんでいます。そこへ 友だちが 来たので みんなで 25 人 になりました。何人 来ましたか。図の□にあてはまる数をかいて考えましょう。



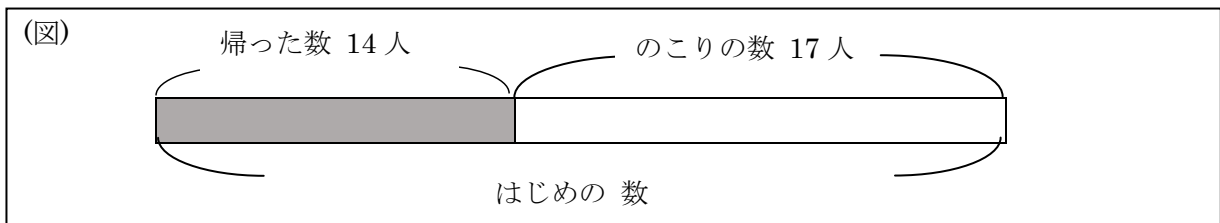
(しき)

$$25 - 7 = 18$$

こたえ

18 こ

- 3 子どもが あそんで いました。その うち 14人が 帰ったので、17人 になりました。はじめは 何人 いましたか。図にかいて考えましょう。



(しき)

$$14 + 17 = 31$$

こたえ

31 人