

レビュー問題

小学校2年 算数
【⑦-5 ふえたり へったり】

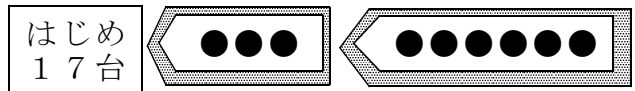
(月 日)

名前

- ① ちゅう車^{じょう}場に 車が 17台^{だい} とまって いました。
そこへ 3台 はいつて きました。
また 6台 はいつて きました。
車は いま 何台 ありますか。

① じゆんに 考えて もとめましょう。

$$17 + \square = \square$$

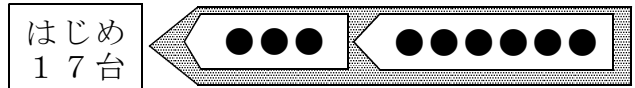


$$\square + 6 = \square$$

答え 台

② 何台 ふえたかを まとめて 考えて もとめましょう。

$$3 + \square = \square$$

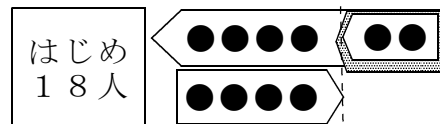


$$17 + \square = \square$$

答え 台

- ② 子どもが 18人 あそんで いました。
そこへ 6人 やつて^{かえ} きました。
その あと 4人 帰りました。
子どもは 何人に なりましたか。
何人 ふえたのかを まとめて 考えて もとめましょう。

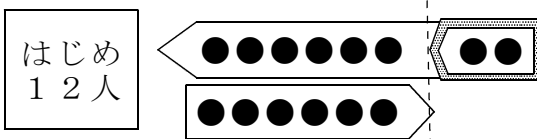
$$6 - \square = \square$$



$$18 + \square = \square$$

答え 人

- ③ バスに おきやくさんが 12人 のっていました。
つぎの バスで 8人のって、6人 おりました。
おきやくさんは 何人に なりましたか。
何人 ふえたのかを まとめて 考えて もとめましょう。



答え 人

レビュー問題

小学校2年 算数
【⑦-5 ふえたり へったり】

(月 日)

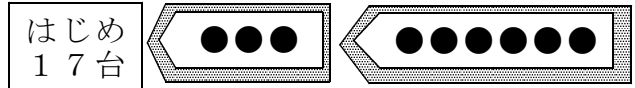
名前

解答

- ① ちゅう車場^{じょう}に 車が 17台^{だい}とまって いました。
そこへ 3台 はいつて きました。
また 6台 はいつて きました。
車は いま 何台 ありますか。

- ① じゆんに 考えて もとめましょう。

$$17 + \boxed{3} = \boxed{20}$$

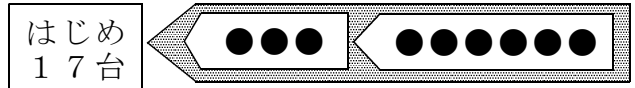


$$\boxed{20} + 6 = \boxed{26}$$

答え $\boxed{26}$ 台

- ② 何台 ふえたかを まとめて 考えて もとめましょう。

$$3 + \boxed{6} = \boxed{9}$$

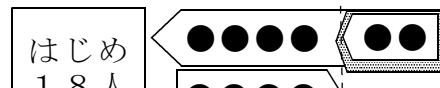


$$17 + \boxed{9} = \boxed{26}$$

答え $\boxed{26}$ 台

- ② 子どもが 18人 あそんで いました。
そこへ 6人 やつて きました。
その あと 4人^{かえ} 帰りました。
子どもは 何人に なりましたか。
何人 ふえたのかを まとめて 考えて もとめましょう。

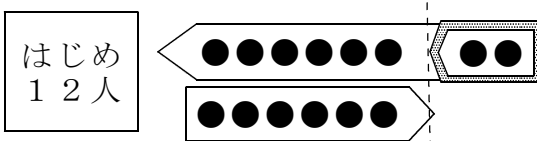
$$6 - \boxed{4} = \boxed{2}$$



$$18 + \boxed{2} = \boxed{20}$$

答え $\boxed{20}$ 人

- ③ バスに おきやくさんが 12人 のっていました。
つぎの バスで 8人のって、6人 おりました。
おきやくさんは 何人に なりましたか。
何人 ふえたのかを まとめて 考えて もとめましょう。



$$8 - 6 = 2$$

$$12 + 2 = 14$$

答え $\boxed{14}$ 人