

レビュー問題

小学校2年 算数

(月 日)

【① ふえたり へったり】

なまえ

① ちゅう車場に 車が 20台 とまって いました。

そこへ 3台 はいって 来ました。

また 6台 はいって 来ました。

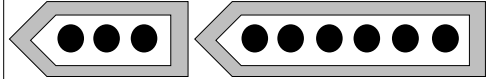
車は いま 何台 ありますか。

① 来た じゆんに 考えて もとめましょう。

$$20 + \square = \square$$

$$\square + 6 = \square$$

はじめ
20台



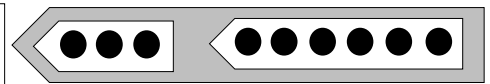
答え 台

② 何台 ふえたかを まとめて 考えて もとめましょう。

$$3 + \square = \square$$

$$20 + \square = \square$$

はじめ
20台



答え 台

② 子どもが 18人 あそんで いました。

そこへ 6人 来ました。

その あと 4人 帰りました。

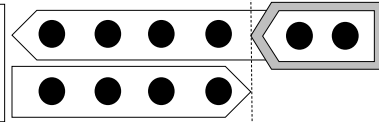
子どもは 何人に なりましたか。

ふえたり へったり した 子どもの 数を まとめて 考えて もとめましょう。

$$6 - \square = \square$$

$$18 + \square = \square$$

はじめ
18人



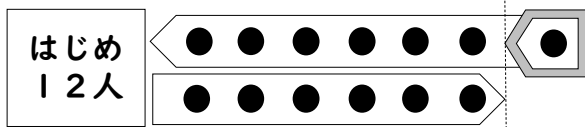
答え 人

③ バスに おきゃくさんが 12人 のっていました。

つぎの バスで 7人のって、6人 おりました。

おきゃくさんは 何人に なりましたか。

ふえたり へったり した 数を まとめて 考えて もとめましょう。



答え 人

レビュー問題

小学校2年 算数
【① ふえたり へったり】

(月 日)

なまえ

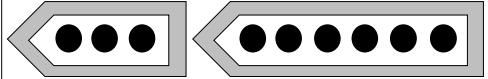
解 答

- ① ちゅう車場^{じょう}に 車が 20台^{だい} とまって いました。
そこへ 3台 はいって 来^きました。
また 6台 はいって 来^きました。
車は いま 何台 ありますか。

- ① 来た じゆんに 考えて もとめましょう。

$$20 + 3 = 23$$

はじめ
20台



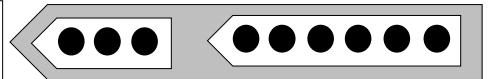
$$23 + 6 = 29$$

答え 29 台

- ② 何台 ふえたかを まとめて 考えて もとめましょう。

$$3 + 6 = 9$$

はじめ
20台



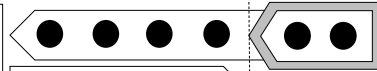
$$20 + 9 = 29$$

答え 29 台

- ② 子どもが 18人 あそんで いました。
そこへ 6人 来^きました。
その あと 4人 帰^{かえ}りました。
子どもは 何人 になりましたか。
ふえたり へったり した 子どもの 数を まとめて 考えて もとめましょう。

$$6 - 4 = 2$$

はじめ
18人

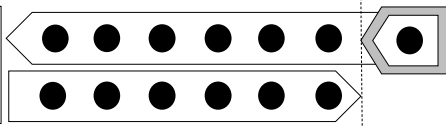


$$18 + 2 = 20$$

答え 20 人

- ③ バスに おきゃくさんが 12人 のっていました。
つぎの バスで 7人のって, 6人 おりました。
おきゃくさんは 何人 になりましたか。
ふえたり へったり した 数を まとめて 考えて もとめましょう。

はじめ
12人



$$7 - 6 = 1$$

$$12 + 1 = 13$$

答え 13 人