

レビュー問題

小学校2年 算数 (月 日)
【15-1 三角形と四角形】

なまえ

1 () の中に, ことばをいれましょう。

(ア)  (①)

①

②

③

④



(イ) 3本の直線で かこまれている 形を (③) といいます。

(ウ) 4本の直線で かこまれている 形を (④) といいます。

2 点と点を 直線でつないで, 三角形と四角形を つくりましょう。

(ア) 三角形

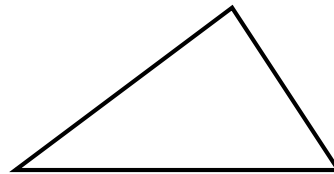
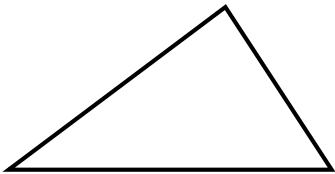
(イ) 四角形



3 下の 三角形のところに, 1本の直線をかいて, つぎの形をつくりましょう。

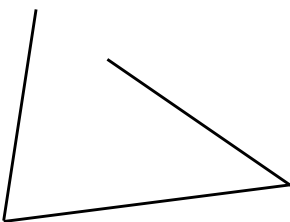
(ア) 2つの三角形

(イ) 1つの三角形と1つの四角形

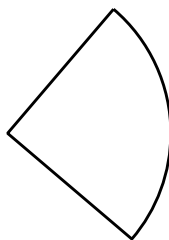


4 ①, ②のかたちが 三角形 でない わけをいましょう。

①



②



①

②

レビュー問題

小学校2年 算数 (月 日)
【15-1 三角形と四角形】

なまえ

解答

1 () の中に, ことばをいれましょう。

(ア)  (①)

① ちょう点

② 辺

③ 三角形

④ 四角形

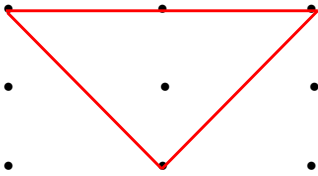
(イ) 3本の直線でかこまれている形を (③) といいます。

(ウ) 4本の直線でかこまれている形を (④) といいます。

2 点と点を直線でつないで, 三角形と四角形をつくりましょう。

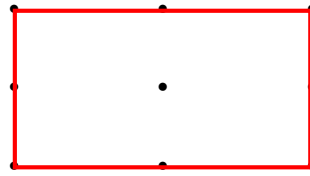
(ア) 三角形

(れい)



(イ) 四角形

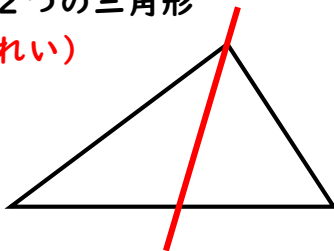
(れい)



3 下の三角形のところに, 1本の直線をかいて, つぎの形をつくりましょう。

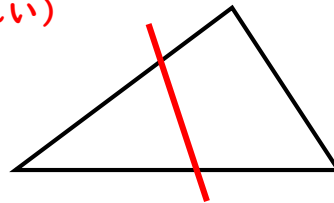
(ア) 2つの三角形

(れい)



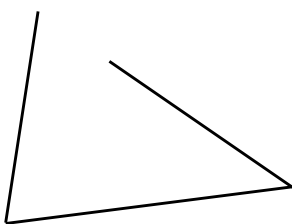
(イ) 1つの三角形と1つの四角形

(れい)

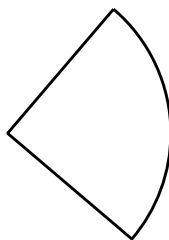


4 ①, ②のかたちが三角形でないわけをいましょう。

①



②



①

かこまれていないから

②

かこんでいる せんのうち

1本が 直線でないから