

# レビュー問題

小学校2年 算数 ( 月 日)  
【15-2 長方形と正方形】

なまえ

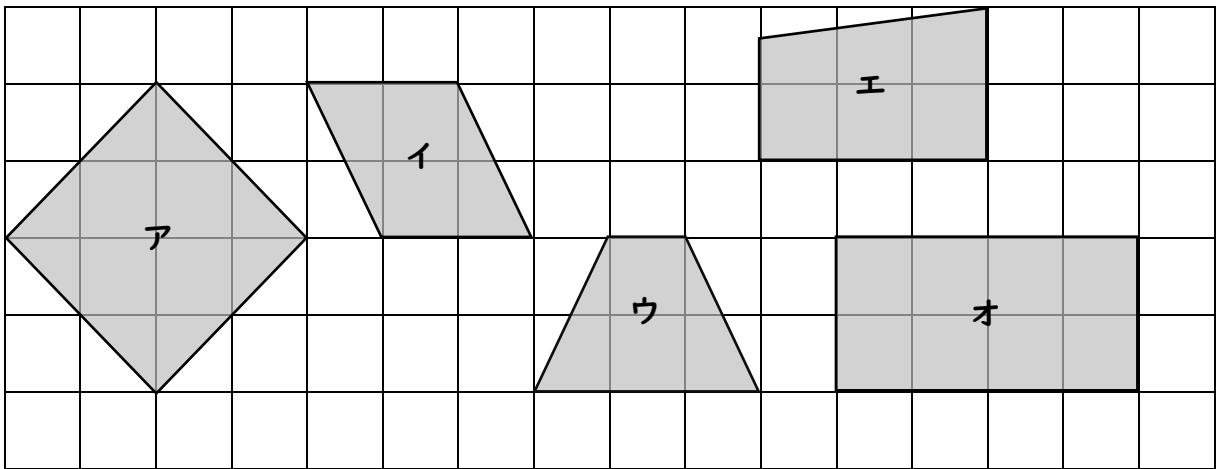
① ( )の中に、ことばをいれましょう。  
(ア)かどがみんな直角になっている四角形を ( ① )とといいます。

(イ)かどがみんな直角で辺の長さがみんな同じ四角形を ( ② )とといいます。


①

②

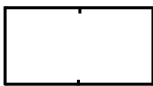
② 長方形や正方形を みつけましょう。また、その わけを いいましょう。



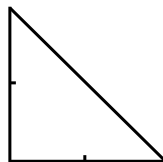
長方形	きごう	わけ
正方形	きごう	わけ

③  を 4 まい つかって ①, ②, ③ の 形 を つくりました。  
せんをひいて、どのように つかったか わかるように しましょう。

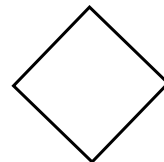
①




②



③



④ もようの 中に 長方形や正方形が いくつあるか いいましょう。そのとき、正方形の かずは 長方形の かずに いれないように しましょう。



長方形

正方形

# レビュー問題

小学校2年 算数 ( 月 日)  
【15-2 長方形と正方形】

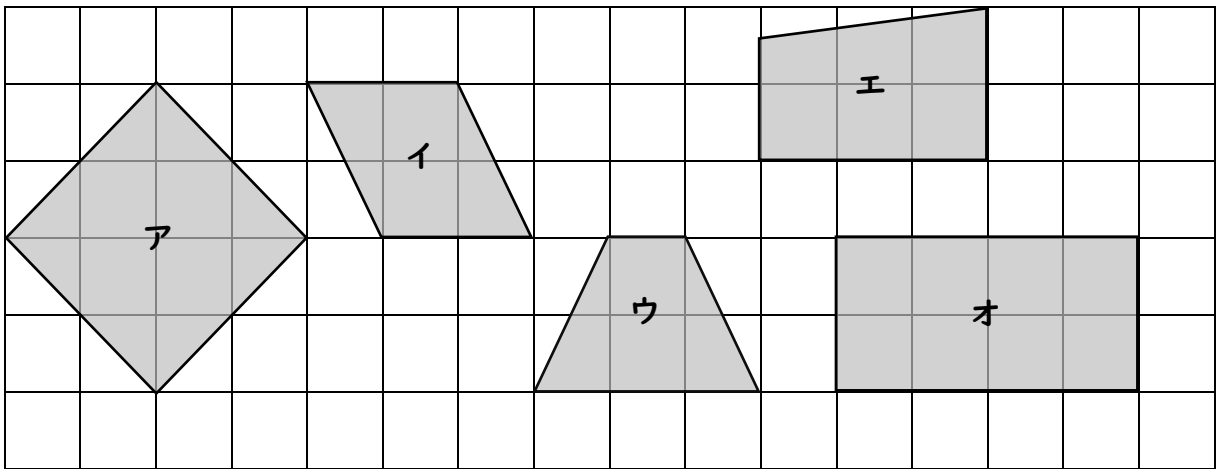
なまえ	解 答
-----	-----

1 ( )の中に、ことばをいれましょう。  
(ア)かどがみんな直角になっている四角形を( ① )といいます。


(イ)かどがみんな直角で辺の長さがみんな同じ四角形を( ② )といいます。

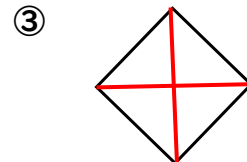
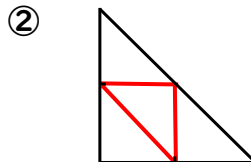
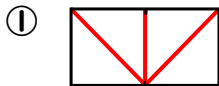
①	長方形
②	正方形

2 長方形や正方形を みつけましょう。また、その わけを いいましょう。




長方形	きごう <b>オ</b>	わけ かどがみんな直角になっている四角形だから
正方形	きごう <b>ア</b>	わけ かどがみんな直角で辺の長さがみんな同じ四角形だから

3  を 4 まい つかって ①, ②, ③ の 形 を つくりました。  
せんをひいて、どのように つかったか わかるように しましょう。  
(れい)



4 もようの 中 に 長方形や正方形が いくつあるか いいましょう。そのとき、正方形の かずは 長方形の かずに いれないように しましょう。



長方形	10
正方形	8