


レビュー問題

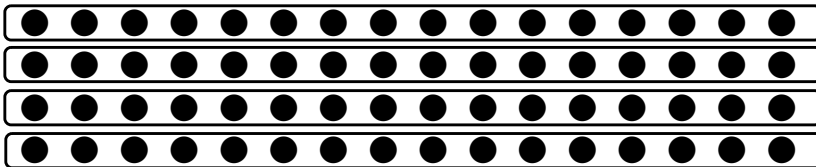
小学校2年 算数 (月 日)
【19-2 九九を広げて】

なまえ

- ① つぎの●を よこ 16 この 4こ分とみて、●が いくつあるか を かんがえます。




- (1) あさまさんは 次のように 答えを もとめました。あさまさんの かんが かた 考え方を せつめいしましょう。



$$16 + 16 + 16 + 16 = 64$$

- (2) しなのさんは 次のように 答えをもとめました。しなのさんの 考え方を 説明しましょう。



$$4 \times 16$$

$$4 \times 16 = 64$$


レビュー問題

小学校2年 算数 (月 日)
【19-2 九九を広げて】

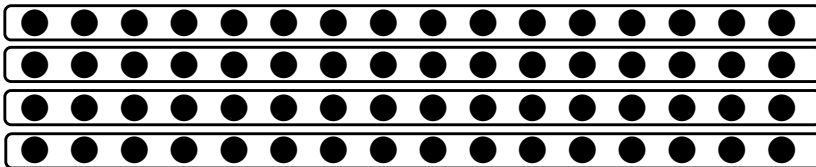
なまえ

解 答

- ① つぎの●を よこ 16 この 4こ分とみて、●が いくつあるか を かんがえます。



- (1) あさまさんは 次のように 答えを もとめました。あさまさんの かんが かた 考え方を せつめいしましょう。




$$16 + 16 + 16 + 16 = 64$$

(れい)

16こが 4こ あるので、16を 4こ たすと、
 $16 + 16 + 16 + 16 = 64$

●は 64こ です。

- (2) しなのさんは 次のように 答えをもとめました。しなのさんの 考え方を 説明しましょう。



$$4 \times 16$$

$$4 \times 16 = 64$$

(れい)

$16 \times 4 = 4 \times 16$ で、
4のだんでは かける数が 1ふえると 答えは
4ずつふえるから、 $4 \times 16 = 64$

●は 64こ です。