

レビュー問題

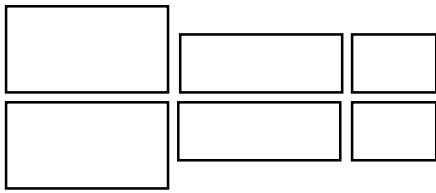
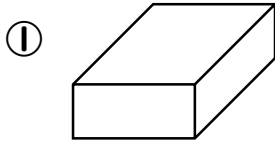
小学校 2年 算数

(月 日)


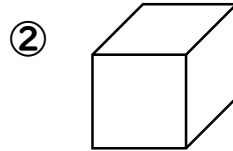
【22-1 はこの形】

なまえ	
-----	--

① 次の はこには 同じ 形の 面が いくつずつ ありますか。



同じ形の が ずつ



同じ形の が ずつ

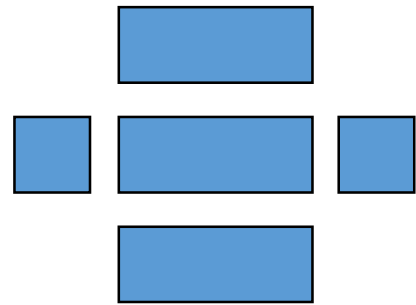
② に あてはまる 数を かきましょう。

	はこの 形には、面が <input type="text"/> つ、 ^{へん} 辺が <input type="text"/> ,
ちょう点 ^{てん} が <input type="text"/> つ あります。	

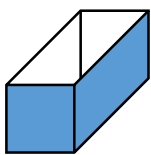
③ 右のような 面を テープで つないで

はこをつくと、ア、イ、ウ、エの

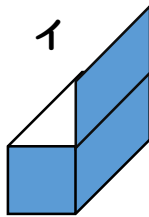
どれができますか。



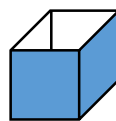
ア



イ



ウ



エ



--

レビュー問題

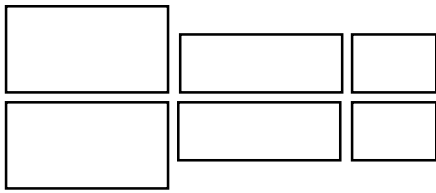
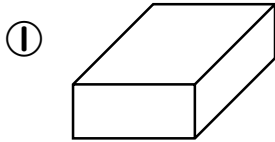
小学校 2年 算数

(月 日)


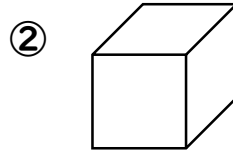
【22-1 はこの形】

なまえ	解 答
-----	-----

① 次の はこには 同じ 形の 面が いくつずつ ありますか。



同じ形の **長方形** が **2** つずつ



同じ形の **正方形** が **6** つ

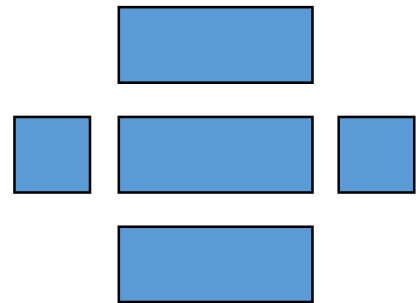
② に あてはまる 数を かきましょう。

はこの 形には、面が **6** つ、^{へん} 辺が **12** ,
 ちょう^{てん} 点が **8** つ あります。

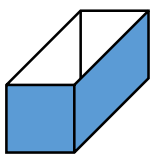
③ 右のような 面を テープで つないで

はこをつくと、ア、イ、ウ、エの

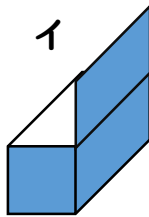
どれができますか。



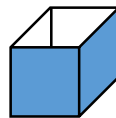
ア



イ



ウ



エ



ア