

レビュー問題

小学校 2年 算数

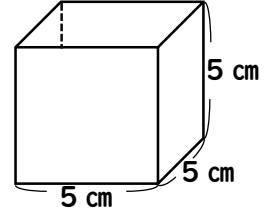
(月 日)

【22-2 はこづくり】

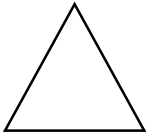
なまえ

① 右のようなはこの ^{かたち}形に ふたをつけます。

ふたにするのは、下のどの形があうかえらびましょう。



ア



イ




ウ



② ひごが 13 本、ねんど玉が 10 こ あります。この ひごと ねんど玉をつかって、はこの形を 1 つ つくります。ひごと ねんど玉は それぞれいくつ あまりますか。 に あてはまる ^{かず}数を かきましょう。

ひごが 本、ねんど玉が こ あまる

③ さいころの形をつくろうとして、下の 6 つの面をつかいましたが、うまくできませんでした。そのわけをせつめいしましょう。



レビュー問題

小学校 2年 算数

(月 日)

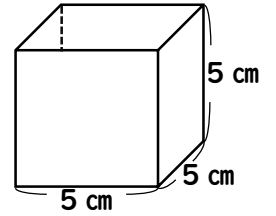
【22-2 はこづくり】

なまえ

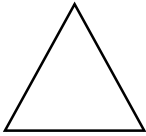
解 答

① 右のようなはこの ^{かたち}形に ふたをつけます。

ふたにするのは、下のどの形があうか えらびましょう。



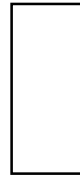
ア



イ



ウ




イ

② ひごが 13 本、ねんど玉が 10 こ あります。この ひごと ねんど玉をつかって、はこの 形を 1 つ つくります。ひごと ねんど玉は それぞれいくつ ありますか。 に あてはまる ^{かず}数を かきましょう。

ひごが 本、ねんど玉が こ あまる

③ さいころの 形をつくろうとして、下の 6 つの 面をつかいましたが、うまく できませんでした。その わけを せつめいしましょう。



さいころの形をつくるには おなじ形の面が 6 つ いるけど、1 つ形がちがうからです。