

レビュー問題

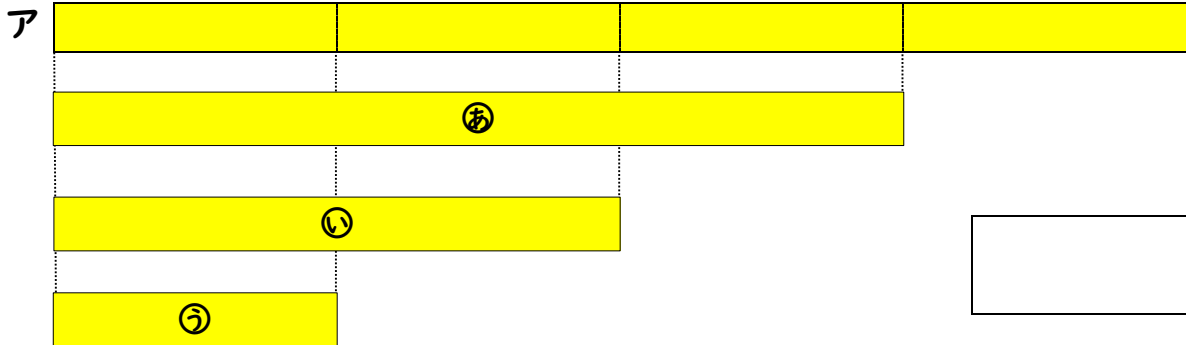
小学校2年 算数
【23 分数】

(月 日)

なまえ

① アの $\frac{1}{2}$ の大きさに なっているのは、どれですか。

㊦から㊩の中から 1つ えらびましょう。



② テープの つぎの 大きさに 色をぬりましょう。



① $\frac{1}{2}$



② $\frac{1}{4}$



③ 右のように、1はこに 6こ入りの いちごと 12こ入りの いちごがあります。



① 6この $\frac{1}{3}$ の大きさは 何こ ですか。

① こ

② 12この $\frac{1}{3}$ の大きさは 何こ ですか。

② こ

③ ①と②では、 $\frac{1}{3}$ の大きさが ちがいます。そのわけを かきま
しょう。

レビュー問題

小学校2年 算数

(月 日)

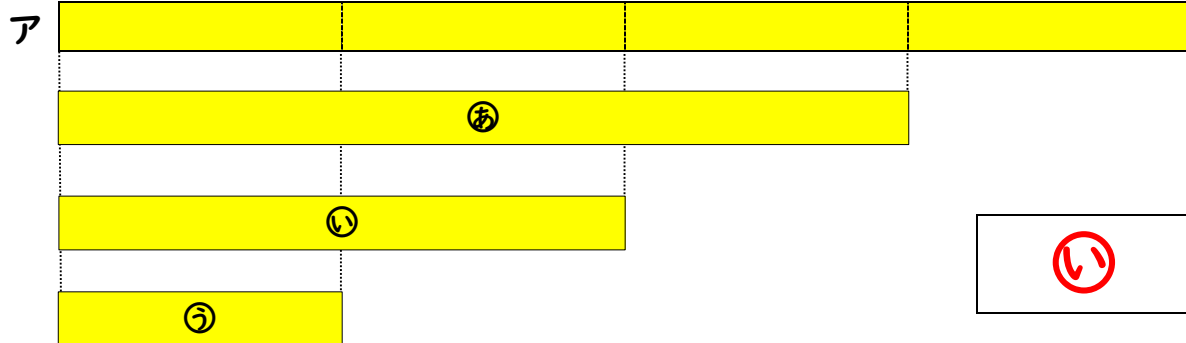
【23 分数】

なまえ

解 答

① アの $\frac{1}{2}$ の大きさに なっているのは、どれですか。

㊦から㊩の中から 1つ えらびましょう。

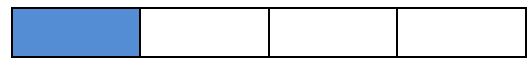


② テープの つぎの 大きさに 色を めりましょう。



① $\frac{1}{2}$



② $\frac{1}{4}$



③ 右のように、1はこに 6こ入りの いちごと 12こ入りの いちごが あります。



① 6この $\frac{1}{3}$ の 大きさは 何こ ですか。

① 2 こ

② 12この $\frac{1}{3}$ の 大きさは 何こ ですか。

② 4 こ

③ ①と②では、 $\frac{1}{3}$ の 大きさが ちがいます。そのわけを かきま しょう。

1はこの いちごの 数が、6こと 12こで ちがうからです。