

レビュー問題

小学校3年 算数

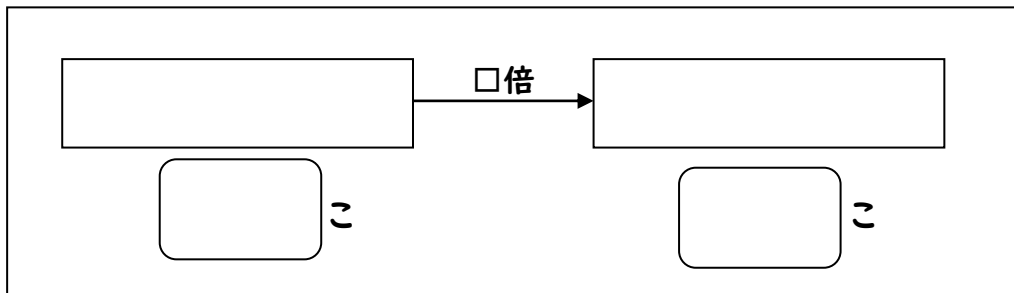
(月 日)

【14-1 何倍でしょう】

名前

- 1 小さい箱には6こ、大きい箱には30このまんじゅうがはいっています。
大きい箱のまんじゅうの数は、小さい箱のまんじゅうの数の何倍ですか。

① 図の空いているところに言葉や数をかきましょう。

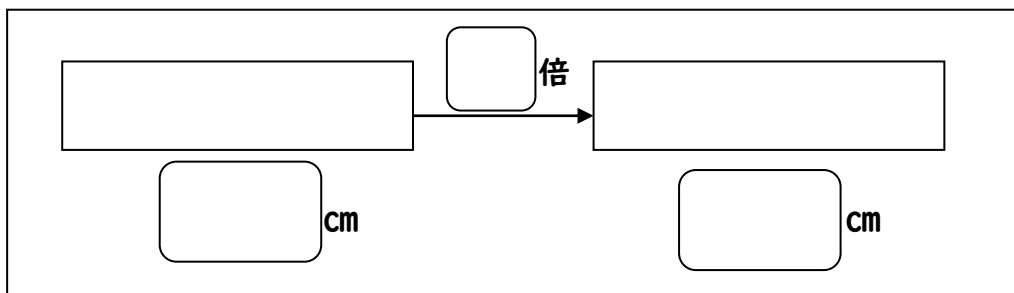


② 式をかいて、答えをもとめましょう。

式 = 倍

- 2 同じあつさの図かんを、本立てにならべます。
8さつで、はば48cmの本立てがちょうどいっぱいになりました。
この図かん1さつのあつさは何cmですか。

① 図の空いているところに□や言葉、数をかきましょう。



② 式をかいて、答えをもとめましょう。

式 = cm

レビュー問題

小学校3年 算数

(月 日)

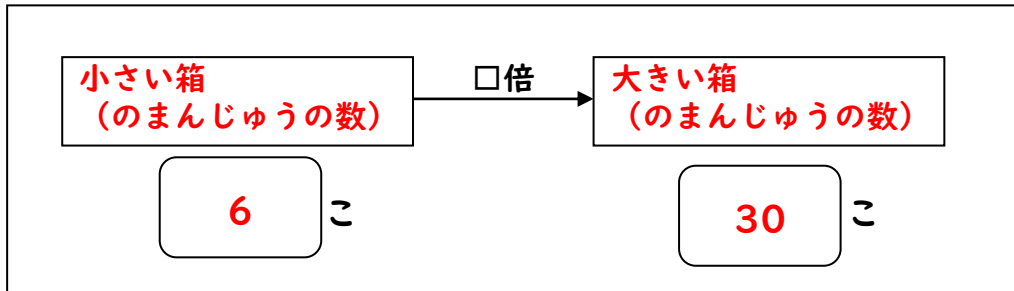
【14-1 何倍でしょう】

名 前

解 答

- 1 小さい箱には6こ、大きい箱には30このまんじゅうがはいっています。
大きい箱のまんじゅうの数は、小さい箱のまんじゅうの数の何倍ですか。

- ① 図の空いているところに言葉や数をかきましょう。

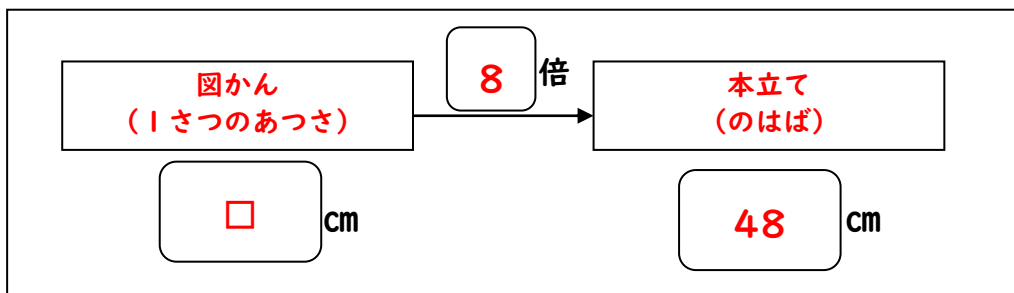


- ② 式をかいて、答えをもとめましょう。

式 $30 \div 6 = 5$ 5 倍
(別式) $6 \times \square = 30$

- 2 同じあつさの図かんを、本立てにならべます。
8さつで、はば48cmの本立てがちょうどいっぱいになりました。
この図かん1さつのあつさは何cmですか。

- ① 図の空いているところに□や言葉、数をかきましょう。



- ② 式をかいて、答えをもとめましょう。

式 $48 \div 8 = 6$ 6 cm
(別式) $\square \times 8 = 48$