

レビュー問題

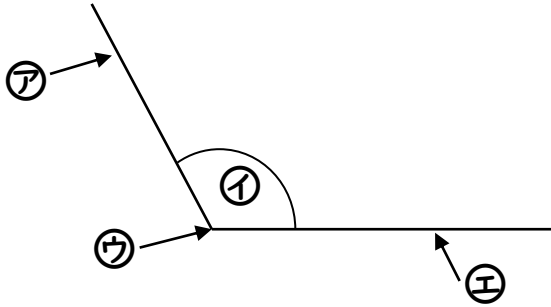
小学校3年 算数

(月 日)

【20-2 角】

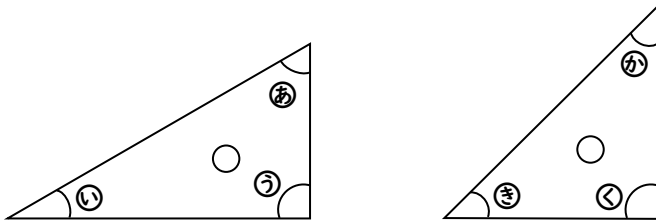
氏名	
----	--

1 下のア～エにあてはまる言葉を書きましょう。



ア	
イ	
ウ	
エ	

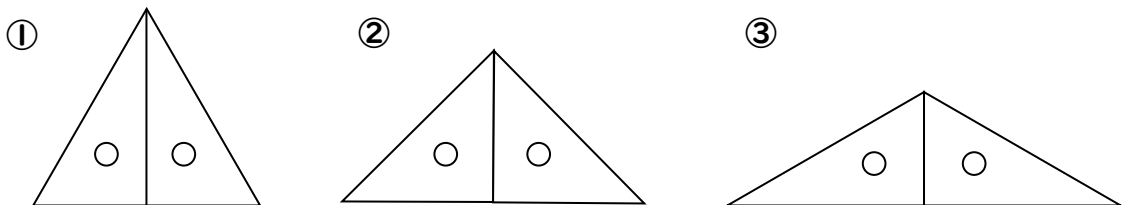
2 三角じょうぎの角の大きさについて、答えましょう。



- (1) いちばん小さい角はどれですか。記号をかきましょう。
- (2) ③の角と同じ大きさの角はどれですか。記号をかきましょう。
- (3) ④の角と同じ大きさの角はどれですか。記号をかきましょう。

(1)		(2)		(3)	
-----	--	-----	--	-----	--

3 同じ三角じょうぎを2まい使って、三角形をつくりました。



それぞれの三角形は、どんな三角形ですか。

①		②		③	
---	--	---	--	---	--

レビュー問題

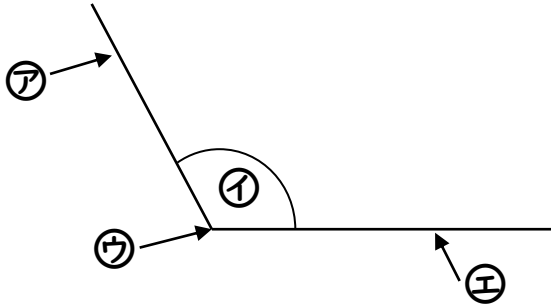
小学校3年 算数

(月 日)

【20-2 角】

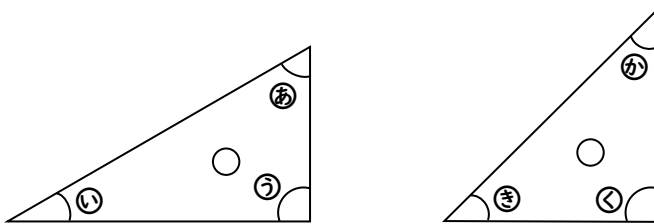
氏名	解答
----	----

1 下の㉠～㉥にあてはまる言葉を書きましょう。



㉠	辺
㉡	角
㉢	ちょう点
㉣	辺

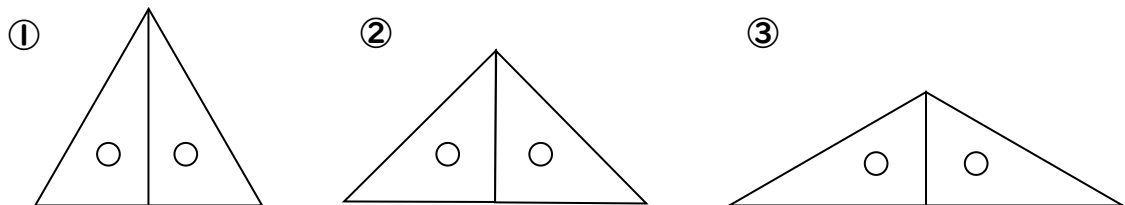
2 三角じょうぎの角の大きさについて、答えましょう。



- (1) いちばん小さい角はどれですか。記号をかきましょう。
- (2) ㉠の角と同じ大きさの角はどれですか。記号をかきましょう。
- (3) ㉡の角と同じ大きさの角はどれですか。記号をかきましょう。

(1)	㉠	(2)	㉣	(3)	㉤
-----	---	-----	---	-----	---

3 同じ三角じょうぎを2まい使って、三角形をつくりました。



それぞれの三角形は、どんな三角形ですか。

①	正三角形	②	二等辺三角形	③	二等辺三角形
---	------	---	--------	---	--------