

レビュー問題

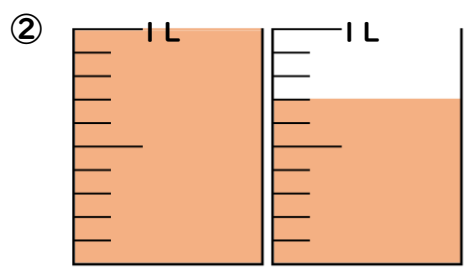
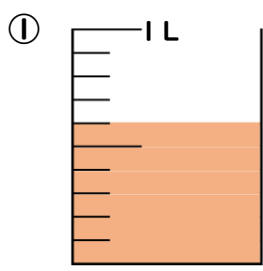
小学校3年 算数

(月 日)

【②-1 あまりの大きさの表し方】

氏名	
----	--

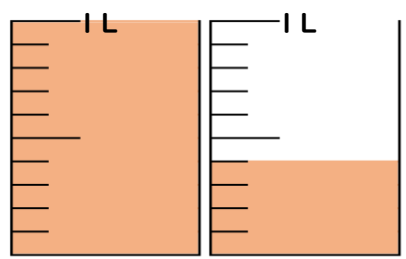
1 ^{つぎ} 次のかさを小数で表しましょう。



①		L
②		L

2 1.4Lは何L何dLですか。次のせつめいに合うように、の中に数を書き入れましょう。

0.1L =	<input type="text"/>	dLだから、		
0.4L =	<input type="text"/>	dL		
1.4L =	<input type="text"/>	L	<input type="text"/>	dL



3 にあてはまる数を書きましょう。

① 7 mm = cm

② 9 dL = L

③ 5 cm 5 mm = cm

④ 1 L 8 dL = L

⑤ 4.8 cm = cm mm

⑥ 7.2L = L dL

レビュー問題

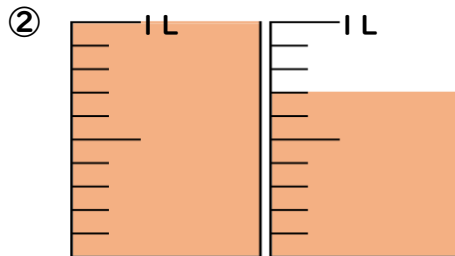
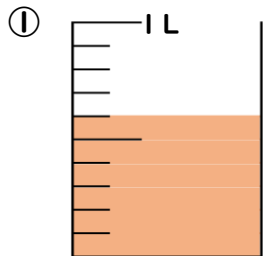
小学校3年 算数

(月 日)

【②-1 あまりの大きさの表し方】

氏名	解答
----	----

1 ^{つぎ} 次のかさを小数で表しましょう。



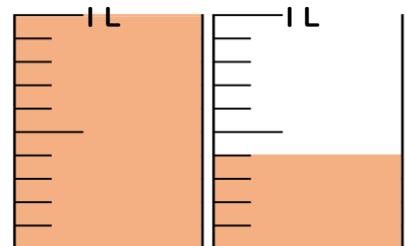
①	0.6	L
②	1.7	L

2 1.4Lは何L何dLですか。次のせつめいに合うように、の中に数を書き入れましょう。

0.1L = dL だから、

0.4L = dL

1.4L = L dL



3 にあてはまる数を書きましょう。

① 7 mm = cm

② 9 dL = L

③ 5 cm 5 mm = cm

④ 1 L 8 dL = L

⑤ 4.8 cm = cm mm

⑥ 7.2L = L dL