

レビュー問題

小学校3年 算数

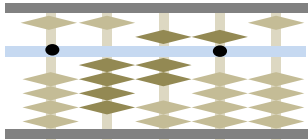
(月 日)

【19-1 そろばん】

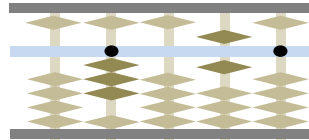
名前	
----	--

1 次の数を読みましょう。

(1)



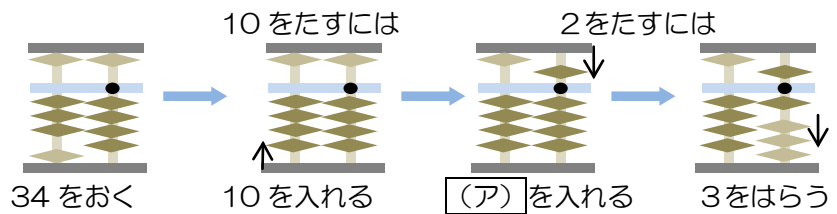
(2)



(1)	
(2)	

2 アにあてはまる数を入れ、(イ)、(ウ)をそろばんで計算しましょう。

$$\begin{array}{r} 34 \\ +12 \\ \hline \end{array}$$



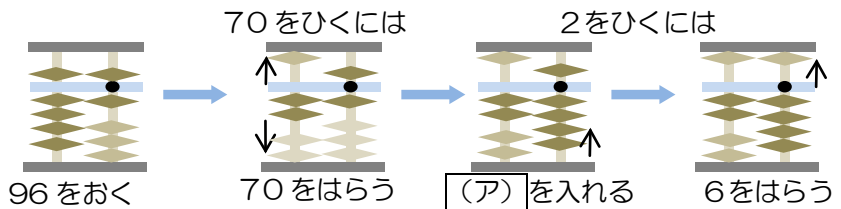
(イ)
$$\begin{array}{r} 53 \\ +14 \\ \hline \end{array}$$

(ウ)
$$\begin{array}{r} 23 \\ +46 \\ \hline \end{array}$$

(ア)	
(イ)	
(ウ)	

3 アにあてはまる数を入れ、(イ)、(ウ)をそろばんで計算しましょう。

$$\begin{array}{r} 96 \\ -72 \\ \hline \end{array}$$



(イ)
$$\begin{array}{r} 87 \\ -63 \\ \hline \end{array}$$

(ウ)
$$\begin{array}{r} 65 \\ -42 \\ \hline \end{array}$$

(ア)	
(イ)	
(ウ)	

4 [ア]、[イ]にあてはまる数を書きましょう。

9 + 3

(ア)	
(イ)	

5 (ア)、(イ)をそろばんで計算しましょう。

(ア)
$$\begin{array}{r} 46 \\ +55 \\ \hline \end{array}$$

(イ)
$$\begin{array}{r} 75 \\ +87 \\ \hline \end{array}$$

(ア)	
(イ)	

6 [ア]、[イ]にあてはまる数を書きましょう。

13 - 7

(ア)	
(イ)	

7 (ア)、(イ)をそろばんで計算しましょう。

(ア)
$$\begin{array}{r} 83 \\ -45 \\ \hline \end{array}$$

(イ)
$$\begin{array}{r} 63 \\ -27 \\ \hline \end{array}$$

(ア)	
(イ)	

レビュー問題

小学校3年 算数

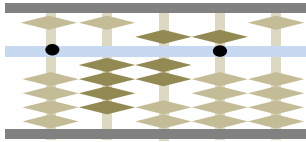
(月 日)

【19-1 そろばん】

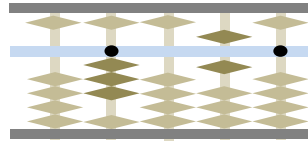
名前	解答
----	----

1 次の数を読みましょう。

(1)



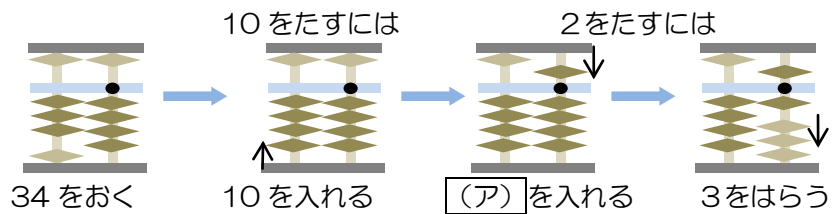
(2)



(1)	475
(2)	3060

2 アにあてはまる数を入れ、(イ)、(ウ)をそろばんで計算しましょう。

$$\begin{array}{r} 34 \\ +12 \\ \hline \end{array}$$



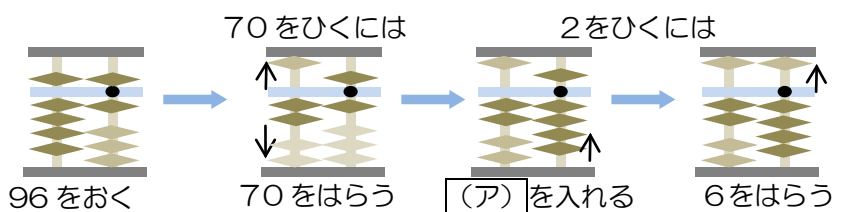
(イ)
$$\begin{array}{r} 53 \\ +14 \\ \hline \end{array}$$

(ウ)
$$\begin{array}{r} 23 \\ +46 \\ \hline \end{array}$$

(ア)	5
(イ)	67
(ウ)	69

3 アにあてはまる数を入れ、(イ)、(ウ)をそろばんで計算しましょう。

$$\begin{array}{r} 96 \\ -72 \\ \hline \end{array}$$

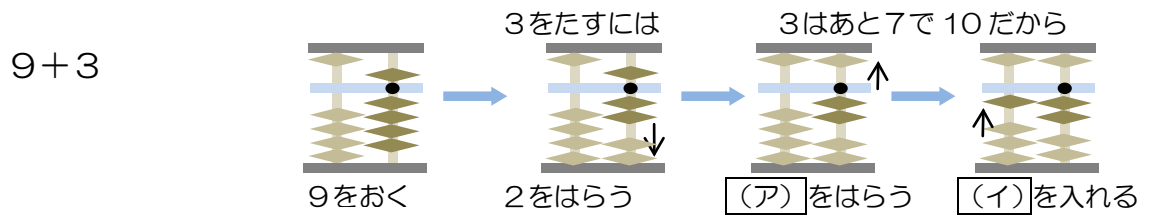


(イ)
$$\begin{array}{r} 87 \\ -73 \\ \hline \end{array}$$

(ウ)
$$\begin{array}{r} 65 \\ -42 \\ \hline \end{array}$$

(ア)	3
(イ)	14
(ウ)	23

4 ア、イにあてはまる数を書きましょう。



(ア)	5
(イ)	10

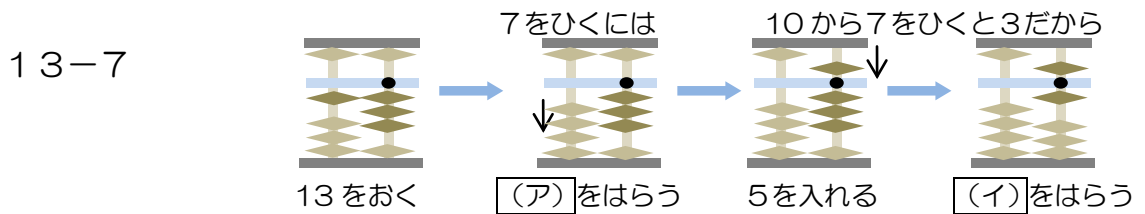
5 (ア)、(イ)をそろばんで計算しましょう。

$$\begin{array}{r} \text{(ア)} \quad 46 \\ +55 \\ \hline \end{array}$$

$$\begin{array}{r} \text{(イ)} \quad 75 \\ +87 \\ \hline \end{array}$$

(ア)	101
(イ)	162

6 ア、イにあてはまる数を書きましょう。



(ア)	10
(イ)	2

7 (ア)、(イ)をそろばんで計算しましょう。

$$\begin{array}{r} \text{(ア)} \quad 83 \\ -45 \\ \hline \end{array}$$

$$\begin{array}{r} \text{(イ)} \quad 63 \\ -27 \\ \hline \end{array}$$

(ア)	38
(イ)	36