

レビュー問題

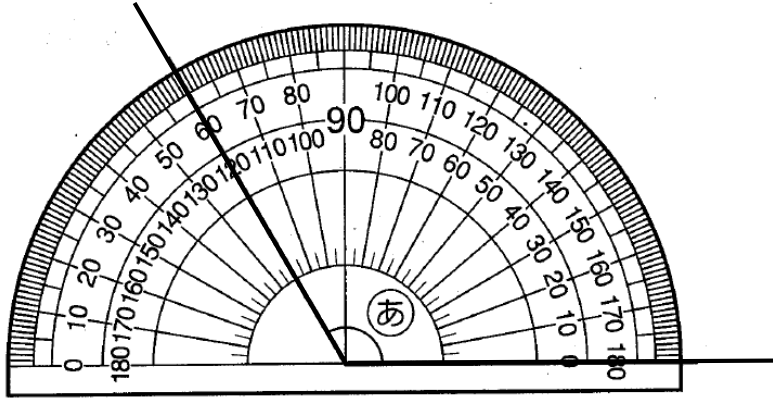
小学校4年 算数

(月 日)

【① - 1 角とその大きさ】

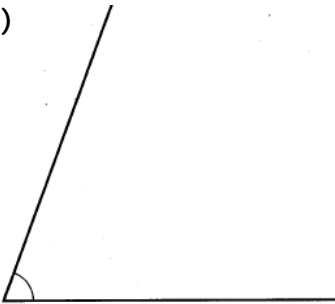
氏名

1 分度器の絵を見て、角 $\textcircled{あ}$ の大きさを答えましょう。

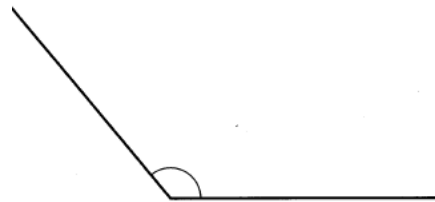


2 下の角の大きさをはかりましょう。

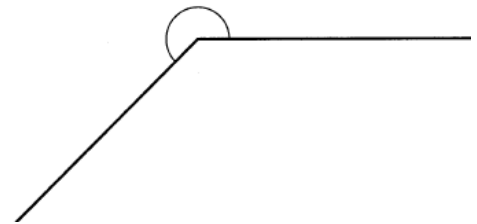
(1)



(2)



(3)



(1)

(2)

(3)

3 次の大きさの角をかきましょう。

(1) 55°

(2) 240°

レビュー問題

小学校4年 算数

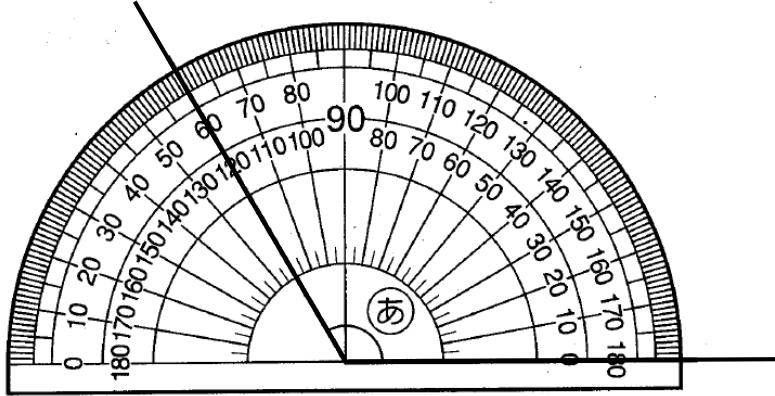
(月 日)

【①ー1角とその大きさ】

氏名

解答

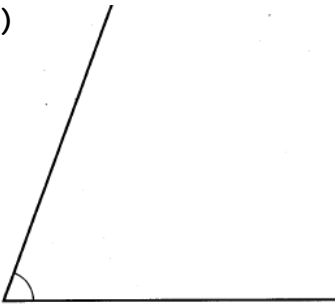
1 分度器の絵を見て、角 $\textcircled{あ}$ の大きさを答えましょう。



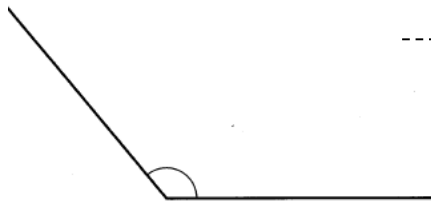
120°

2 下の角の大きさをはかりましょう。

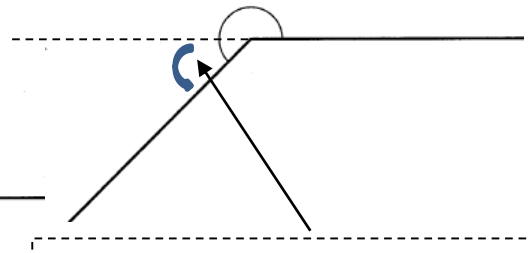
(1)



(2)



(3)



(3) 180° より大きい角です。この角度を求めて、180° とたしましょう。

(1)

70°

(2)

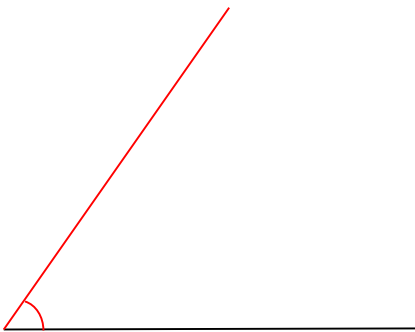
130°

(3)

225°

3 次の大きさの角をかきましょう。

(2) 55°



(2) 240°

