

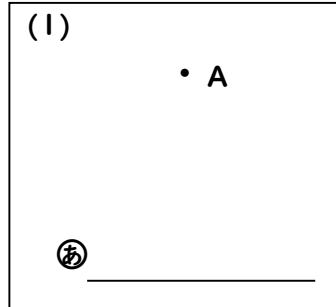
レビュー問題

【⑤-2 垂直や平行な直線のかき方】

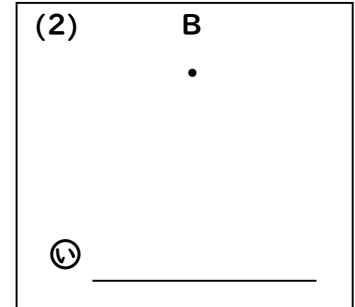
氏名	
----	--

1 1組の三角定規を使ってかきましょう。

(1) 点Aを通過して、直線⑥に垂直な直線をかきましょう。

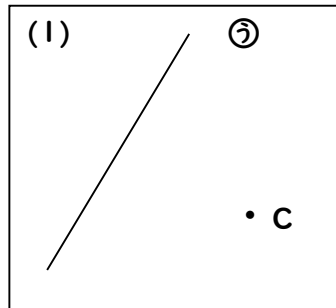


(2) 点Bを通過して、直線⑦に平行な直線をかきましょう。

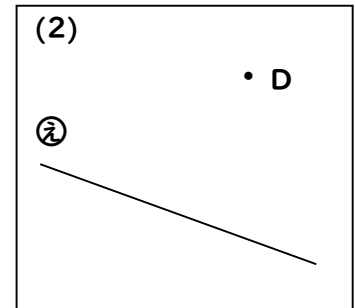


2 1組の三角定規を使ってかきましょう。

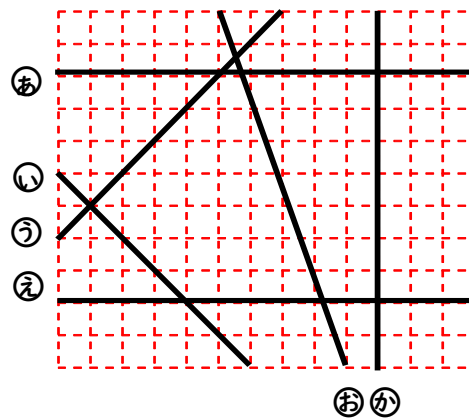
(1) 点Cを通過して、直線⑧に垂直な直線をかきましょう。



(2) 点Dを通過して、直線⑨に平行な直線をかきましょう。

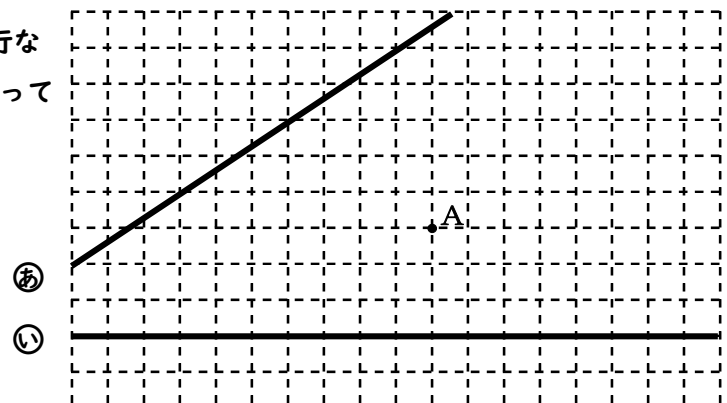


3 右の図で、垂直になっている直線はどれとどれですか。また、平行になっている直線はどれとどれですか。



垂直	
平行	

4 右の図で、点Aを通過して直線⑬に平行な直線をかきましょう。また、点Aを通過して直線⑭に垂直な直線をかきましょう。



レビュー問題

【⑤-2 垂直や平行な直線のかき方】

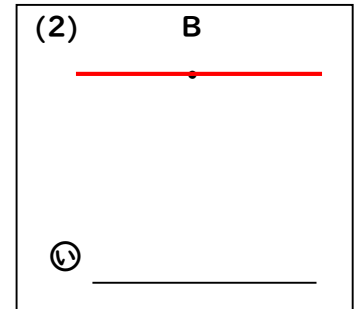
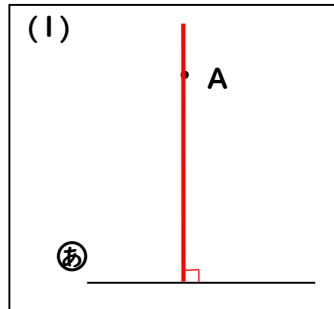
氏名	解答
----	----

1 1組の三角定規を使ってかきましょう。

(1) 点Aを通過して、直線⑥に垂直な直線をかきましょう。

教科書の66～67ページで、垂直や平行な直線のかき方をかくにんしておきましょう。

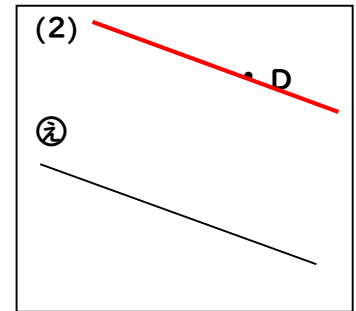
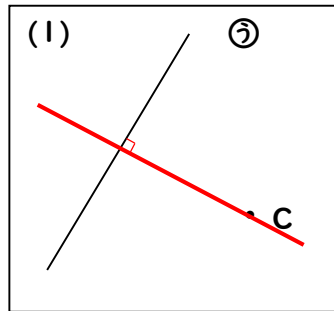
(2) 点Bを通過して、直線①に平行な直線をかきましょう。



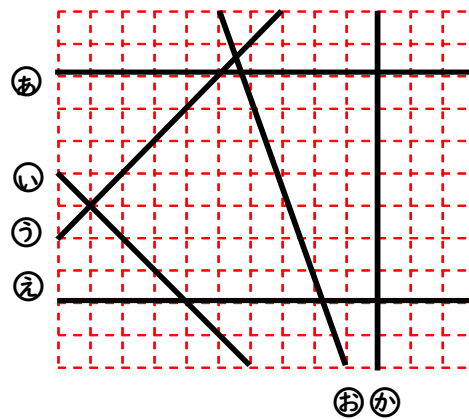
2 1組の三角定規を使ってかきましょう。

(1) 点Cを通過して、直線⑦に垂直な直線をかきましょう。

(2) 点Dを通過して、直線②に平行な直線をかきましょう。



3 右の図で、垂直になっている直線はどれとどれですか。また、平行になっている直線はどれとどれですか。



垂直	③と④
	⑤と④
	①と⑥
平行	③と⑤

4 右の図で、点Aを通過して直線⑥に平行な直線をかきましょう。また、点Aを通過して直線①に垂直な直線をかきましょう。

