

レビュー問題

【⑥-1 小数の表し方】

氏名	
----	--

1 にあてはまる数を書きましょう。

(1) 1Lを4こ、0.1Lを6こ、0.01Lを3こあわせた数は、 Lです。

(2) 0.01Lが、100こで Lになります。

(3) 0.001kmが、1000こで kmになります。

(1)	<input type="text"/>
(2)	<input type="text"/>
(3)	<input type="text"/>

2 にあてはまる数を入れましょう。


(1) 82cmは、 mです。

(2) 0.7kgは、 gです。

(3) 0.1分は、1分(60秒)を10こに等しくわけた1こぶんなので、 秒です。

(1)	<input type="text"/>
(2)	<input type="text"/>
(3)	<input type="text"/>

3 次の「ア」のめもりが、0.4になることを絵や言葉で説明しなさい。



レビュー問題

小学4年 算数

(月 日)

【⑥-1 小数の表し方】

氏名

解答

1 にあてはまる数を書きましょう。

(2) 1Lを4こ、0.1Lを6こ、0.01Lを3こあわせた数は、 Lです。

(2) 0.01Lが、100こで Lになります。

(3) 0.001kmが、1000こで kmになります。

(1) 4.63

(2) 1

(3) 1

2 にあてはまる数を入れましょう。

(1) 82cmは、 mです。

(2) 0.7kgは、 gです。

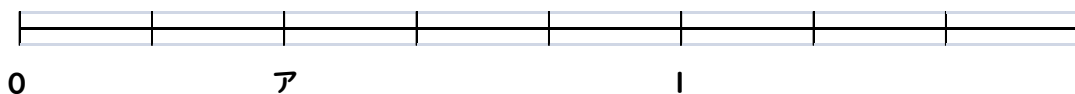
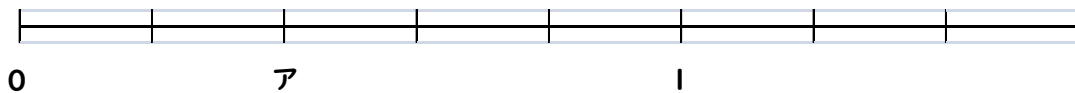
(3) 0.1分は、1分(60秒)を10こに等しくわけた1こぶんなので、 秒です。

(1) 0.82

(2) 700

(3) 6

3 次の「ア」のめもりが、0.4になることを絵や言葉で説明しなさい。



このめもりは、0と1の間が5つにわかれているので、1つのめもりは、0.2です。

だから、アのめもりは0から2つめなので、2つ分だから0.4です。