

レビュー問題

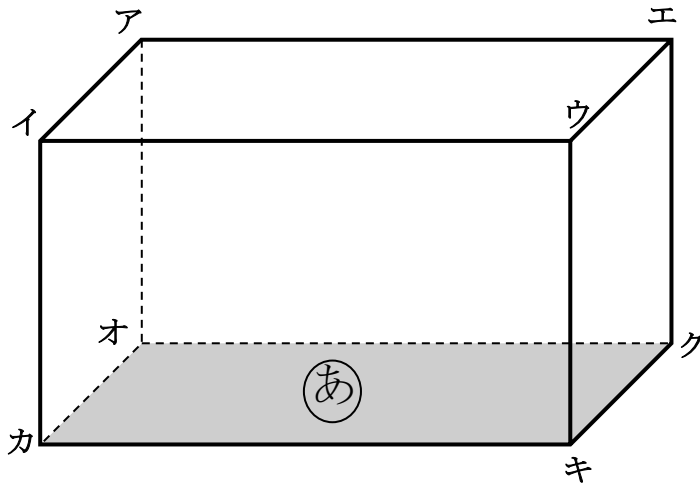
小学校4年 算数

(月 日)

【16-2 面や辺の平行と垂直】

氏名	
----	--

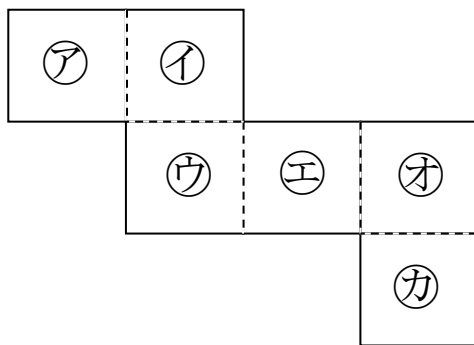
- 1 下の直方体には、**あ**の面に垂直な辺がいくつかあります。
あの面に垂直な辺を1つ選んで、書きましょう。



辺

- 2 下の図のような立方体のでん開図があります。

- (1) このてん開図を組み立てた時に**あ**の面と平行になる面はどれですか。
 (2) このてん開図を組み立てた時に**あ**の面と垂直になる面はどれですか。全て答えましょう。



(1)	
(2)	

- 3 次の にあてはまる言葉を書きましょう。

1つの平面に垂直な2つの辺は、たがいに である。

--

レビュー問題

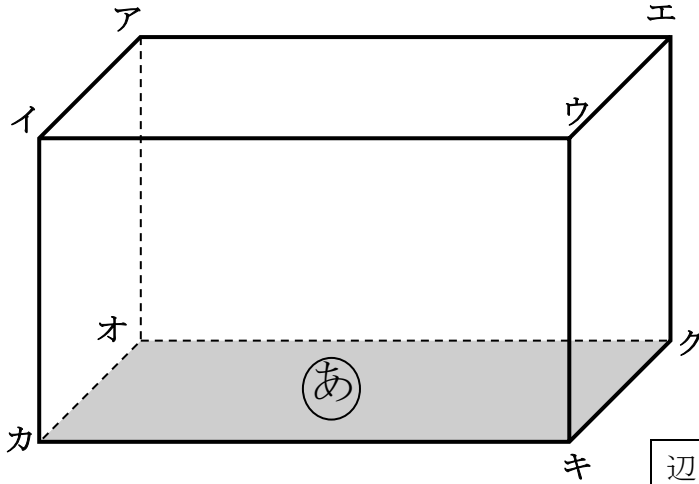
小学校4年 算数

(月 日)

【⑯-2 面や辺の平行と垂直】

氏名	解答
----	----

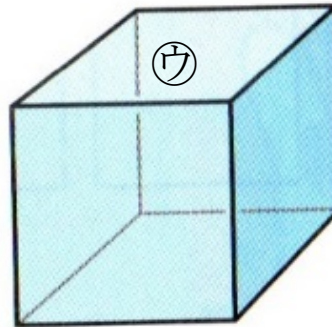
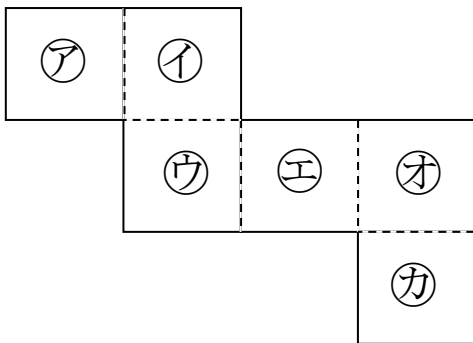
- 1 下の直方体には、**あ**の面 に垂直な辺がいくつかあります。
あの面に垂直な辺を1つ選んで、書きましょう。



辺アオ、辺イカ、辺ウキ、辺エクの中から1つ

- 2 下の図のような立方体のでん開図があります。

- (1) このてん開図を組み立てた時に**あ**の面と平行になる面はどれですか。
 (2) このてん開図を組み立てた時に**あ**の面と垂直になる面はどれですか。全て答えましょう。




立方体の見取図を書いて考えてみると、面と面の関係が考えやすくなります。

(1)	面 エ
(2)	面 イ 、面 ウ 、面 オ 、面 カ

- 3 次の にあてはまる言葉を書きましょう。

1つの平面に垂直な2つ辺は、たがいに である。



平行