

レビュー問題

小学校4年 算数

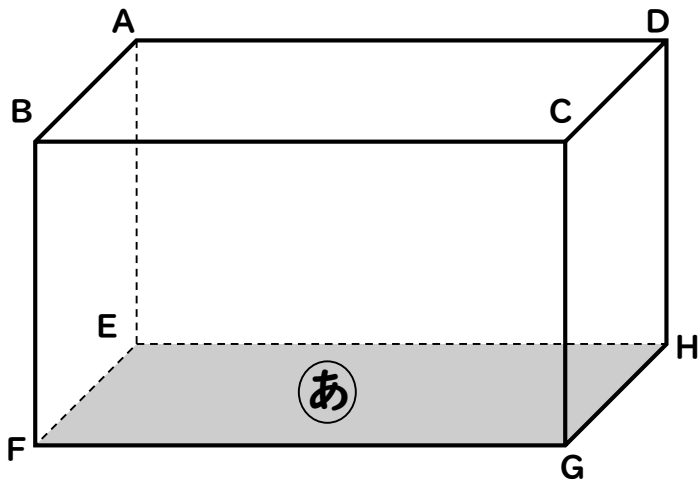
(月 日)

【20-2 面や辺の平行と垂直】

氏名	
----	--

1 下の直方体には、**あ**の面に垂直な辺が4つあります。

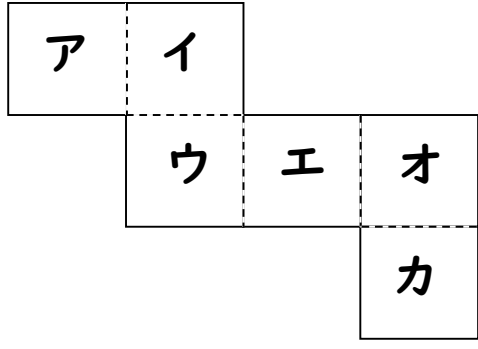
あの面と垂直な辺をすべてみましょう。



辺
辺
辺
辺

2 下の立方体のでん開図を組み立てます。

- (1) アの面と平行な面はどれですか。
- (2) アの面と垂直な面をすべてみましょう。



(1)	
(2)	

3 次の にあてはまる言葉を書きましょう。

1つの平面に垂直な2つの辺は、たがいに である。

レビュー問題

小学校4年 算数

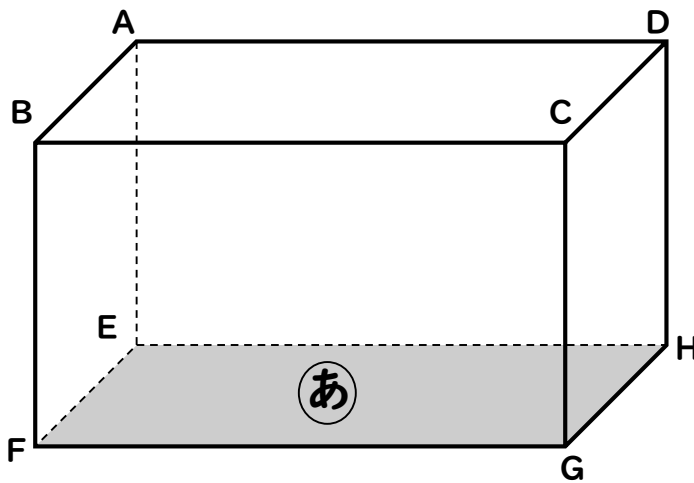
(月 日)

【20-2 面や辺の平行と垂直】

氏名	解答
----	----

1 下の直方体には、**あ**の面に垂直な辺が4つあります。

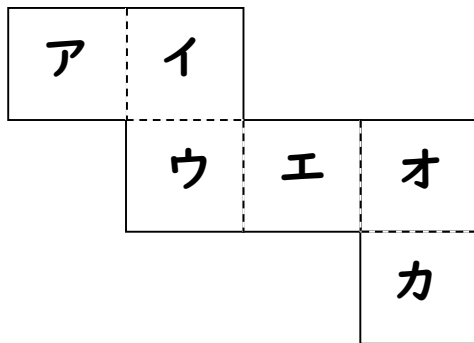
あの面と垂直な辺をすべてみましょう。



辺	AE
辺	BF
辺	CG
辺	DH

2 下の立方体のでん開図を組み立てます。

- (1) アの面と平行な面はどれですか。
- (2) アの面と垂直な面をすべてみましょう。



(1)	面エ
(2)	面イ 面ウ 面オ 面カ

3 次の にあてはまる言葉を書きましょう。

1つの平面に垂直な2つの辺は、たがいに である。

平行